



**AÇIK ÖĞRETİM ORTAOKULU
2017 - 2018 ÖĞRETİM YILI
1. DÖNEM SINAVI**

0

09 ARALIK 2017 Saat: 09.30

1.
OTURUM

<u>DERSLER</u>	<u>SAYFA</u>	<u>DERSLER</u>	<u>SAYFA</u>
(550) TÜRKÇE – 5	2	(730) TÜRKÇE – 7	16
(551) MATEMATİK – 5	4	(731) MATEMATİK – 7	19
(552) FEN BİLİMLERİ – 5	6	(732) FEN BİLİMLERİ – 7	21
(633) SOSYAL BİLGİLER – 6	8	(834) T.C. İNK. TAR. VE ATATÜRK. – 8	23
(634) İNGİLİZCE – 6	9	(835) İNGİLİZCE – 8	25
(634) ALMANCA – 6	11	(835) ALMANCA – 8	26
(634) FRANSIZCA – 6	13	(835) FRANSIZCA – 8	28
(635) DİN KÜL. VE AHLAK BİLGİSİ – 6	15	(836) DİN KÜL. VE AHLAK BİLGİSİ – 8	30

ADAYLARIN DİKKATİNE!

- Her ders için 20 soru bulunmaktadır. Bu oturumda **150** dakikalık cevaplama süreniz vardır. Sınav başladıktan sonra ilk **30** dakika tamamlanmadan dışarı çıkmayınız.
- Sınav sırasında çanta, cep telefonu, saat, kablosuz iletişim sağlayan cihazlar ve kulaklık, kolye, küpe, bilezik, yüzük, broş ve benzeri eşyalar ile her türlü elektronik ve/veya mekanik cihazları yanınızda bulundurmuyunuz. Bu araçları yanınızda bulundurmanız ve kopya çekmeye teşebbüs etmeniz hâlinde sınavınız geçersiz sayılacaktır.
- Başvuru şartlarını taşımadığınız hâlde sınava girmeniz, kopya çekmeniz, başka adayın sınav evrakını kullanmanız, geçerli kimlik belgenizi ve sınav giriş belgenizi ibraz edemediğiniz durumlarda sınavınız geçersiz sayılacaktır.
- Sınavın değerlendirilmesi aşamasında, bilgisayar ortamında yapılan kopya analizinde sistemin ikili ve/veya toplu kopya tespiti hâlinde sınavınız geçersiz sayılacaktır.
- Adaylar, sınav kurallarına ve salon görevlilerinin tüm uyarılarına uymak zorundadır. Kurallara ve uyarılara uymayan adayların sınavları geçersiz sayılacaktır.**
- Sınav başladıktan sonra adayların salon görevlileri ve birbirleri ile konuşmaları; kalem, silgi vb. şeyleri istemeleri yasaktır.
- Adaylar sınav süresince, sınav giriş belgesi ile geçerli kimlik belgelerinden birinin aslını (fotoğraflı nüfus cüzdanı, pasaport veya sürücü belgesi) masalarının üzerinde bulundurmamak zorundadır.
- Sınav evraklarını teslim etmeyen, soru kitapçıklarının sayfalarından bir kısmını eksik teslim edenlerin sınavları geçersiz sayılacaktır.**
- Sınav başlamadan önce kitapçığın arkasındaki açıklamaları okuyunuz.

BAŞLAYINIZ DENMEDEN SORU KİTAPÇIKLARINI AÇMAYINIZ.

1. OTURUM

(550) TÜRKÇE – 5

1. “Çıkmak” sözcüğü aşağıdaki cümlelerin hangisinde “binaya kat eklemek” anlamında kullanılmıştır?

- A) Eski evimizden çıkıp yeni evimize taşındık.
- B) Bir arkadaşımın yorgun adımlarla konaktan çıktık.
- C) Bayramın son günü kaleye çıkacağız.
- D) Evin inşaatında beşinci katı çıktılar.

2. Bahri bir gün, babasının Külüstür adını taktığı kamyonunu tamir ederken aklına parlak bir fikir geldi.

Altı çizili sözcüğün bu cümleye kattığı anlam aşağıdakilerden hangisidir?

- A) Saçma
- B) Komik
- C) İyi
- D) Çok

3. 1. Adamın acayip hareketleri dikkati çekmişti.
2. Oyunumuz için basit kurallar koyalım.
3. Apartmanda tuhaf olaylar oluyordu.
4. Zor zamanlarda hep yanımızda olmuştur.

Numaralanmış cümlelerdeki altı çizili sözcüklerden hangileri yakın anlamlıdır?

- A) 1 ve 2.
- B) 1 ve 3.
- C) 2 ve 4.
- D) 3 ve 4.

4. “Tatlı” sözcüğü aşağıdaki cümlelerin hangisinde mecaz anlamda kullanılmıştır?

- A) Misafirler bize tatlı getirmişler.
- B) Ben şerbetli tatlıları severim.
- C) Tatlı dil yılanı deliğinden çıkarır.
- D) Annemin yaptığı sütlaç çok tatlıydı.

5. Kümesten tavukların yumurtalarını sen toplayabilirsin - - - - sakın kırma!

Anlam bütünlüğünü sağlamak için bu cümlede boş bırakılan yere aşağıdaki sözcüklerden hangisi getirilmelidir?

- A) ama
- B) oysa
- C) çünkü
- D) hâlbuki

6. “Yağmur” sözcüğü aşağıdaki eklerden hangisini alırsa yeni bir sözcük türetilmiş olur?

- A) -da
- B) -luk
- C) -un
- D) -dan

7. Aşağıdaki cümlelerin hangisinde zıt anlamlı sözcükler bir arada kullanılmıştır?

- A) İşleyen demir pas tutmaz.
- B) Deve boynuz ararken kulaktan olmuş.
- C) Akıl yaşta değil, baştadır.
- D) Aç doymam, tok acıkmam sanır.

8. Aşağıdaki cümlelerin hangisinde kişisel bir görüşe yer verilmiştir?

- A) Türkiye'nin en yüksek dağı Ağrı Dağı'dır.
- B) İstanbul'un, hem Asya hem Avrupa Kıtası'nda toprağı bulunuyor.
- C) Bence rolünü güzel oynuyor.
- D) Bir yıl 365 gün 6 saattir.

9. ...

Var varırsan çayıra, sür sürersen tarlayı. Söylenmemiş sözümü kulaksız dinler isen, açarsın kalp gözünü.

Söyleyeceğim şu ki: Babamı uyutmak için beşiğini sallarken o beşiği beş parça ettim. Babam develere, develer anama haber verdi. Anam üç kulaçlık yoldan dağları aşarak geldi.

Bir varmış, bir yokmuş.

...

Giriş bölümünden bir kesitin alındığı bu metnin türü aşağıdakilerden hangisidir?

- A) Masal
- B) Hikâye
- C) Anı
- D) Haber yazısı

1. OTURUM

10. 1. Sonra ortasına bir güneş, bir de bulut çizdi.
2. Odasındaki masanın çekmecesinden pastel boya larını çıkardı.
3. Pastel boya larıyla önce kocaman bir gökyüzü yaptı.
4. Resim yapmak için odasına gitti.

Numaralanmış cümleler olayların oluş sırasına göre nasıl sıralanmalıdır?

- A) 1-2-3-4
B) 2-1-4-3
C) 3-1-4-2
D) 4-2-3-1

11. **Aşağıdaki cümlelerin hangisinde amaç-sonuç ilgisi vardır?**

- A) Kuşlar, yaşlı ağacın dallarına yuva yapmıştı.
B) Müzisyen olmak için eğitim alıyor.
C) Bilgisayar başında fazla oturmamalısınız.
D) Bir kâğıt havlu ile masayı sildi.

12. Uludağ'ın arka yüzünden, Soğukpınar-Keles yolundan kıvrıla kıvrıla indim. Böğürtlenlerin, mor çiçeklerin, kırmızı gelinciklerin, sarı papatyaların süslediği yoldan giderken baharın güzelliğini düşündüm. Arabanın pencerelerini açıp reçine kokan havayla ciğerlerimi yıkadım. Zirveye doğru kulaklarım rüzgârın uğultusuyla doldu.

Bu metinde aşağıdaki duyulardan hangisiyle ilgili bir ayrıntıya yer verilmemiştir?

- A) Tatma
B) Görme
C) İşitme
D) Koklama

13. Sonbahar çoktan başladı. Eylül ayıyla birlikte balık avı yasağı da bitti. Ama bu, balıkların rastgele avlanacağı anlamına gelmiyor. Sadece yasal av boyuna ulaşmış balıklar avlanabiliyor. Hamsi 9, istavrit 13, sardalya 11, palamut 25, lüfer 20 santimetre olmalı. Bu boydan küçük balıkları yemeyi reddederek, ailenizin satın almasını engelleyerek balıkların korunmasına yardımcı olabilirsiniz.

Bu metinde aşağıdakilerden hangisine değinilmemiştir?

- A) Balıkların korunması için ne yapılması gerektiğine
B) Bazı balıkların yasal av boyuna
C) Balık avı yasağının bittiği zamana
D) Balıkları avlama yöntemlerine

14. Kötü olaylar yaşasa bile her zaman yaşamından memnun olmanın yolunu bulurdu. Bardağın boş değil dolu tarafını görürdü. Her şeyi iyi yönüyle değerlendirirdi. Bu yönüyle çevresindekiler tarafından takdir edilirdi.

Bu metinde bahsedilen kişi için aşağıdakilerden hangisi söylenebilir?

- A) İyimser
B) Gururlu
C) Fedakâr
D) Hırslı

15. Okulum, ah, okulum!
Bilgi, sağlık yuvası.
Kaynıyor damarımda
Okulumun havası

Bu şiirin konusu aşağıdakilerden hangisidir?

- A) Sağlıklı olmak
B) Bilimin önemi
C) Okul sevgisi
D) Çalışmanın güzelliği

16. **Aşağıdaki cümlelerin hangisinde karşılaştırma yapılmıştır?**

- A) Filmde, bir sanatçının hayatı konu edilmişti.
B) Yolculukta güzel insanlarla tanıştık.
C) Yağmur hiç durmadan sabaha kadar yağdı.
D) Satrancı, Kemal senden daha iyi oynuyor.

17. Siz de kedileri sever misiniz () Masum masum bakan gözleri () insanın içini rahatlatan sesleri vardır ()

Bu metinde ayrıca gösterilen yerlere sırasıyla aşağıdaki noktalama işaretlerinden hangileri getirilmelidir?

- A) (!) (;) (.)
B) (?) (;) (...)
C) (.) (,) (...)
D) (?) (,) (.)

18. Çocuk, aralanan kapıdan koşarak çıktı.

Bu cümledeki altı çizili sözcük aşağıdaki sorulardan hangisine cevap verir?

- A) Ne zaman?
B) Nasıl?
C) Niçin?
D) Kim?

1. OTURUM

19. Aşağıdaki cümlelerin hangisinde büyük harflerin kullanımıyla ilgili bir yanlışlık vardır?

- A) Senin kütahyalı olduğunu sanıyorduk.
- B) Elindeki poşetleri Erol masaya bıraktı.
- C) Tatile köpeğimiz İskelet'i de götürdük.
- D) Yazın her pazar pikniğe giderim.

20. Aşağıdaki cümlelerin hangisinde altı çizili sözcükte ünlü düşmesi vardır?

- A) Ayakkabının burnu patlamış.
- B) Zaman çok çabuk geçiyor.
- C) Pencerenin kolu bozuldu.
- D) Masaya bir tabak daha koydu.

(551) MATEMATİK – 5

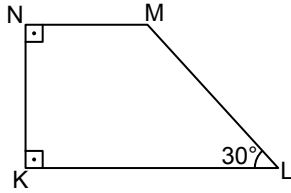
1. 714 685 sayısındaki 7 rakamının basamak değeri kaçtır?

- A) 700 000
- B) 70 000
- C) 7000
- D) 700

2. 3^2 ifadesi aşağıdakilerden hangisine eşittir?

- A) 7
- B) 8
- C) 9
- D) 10

3.



KLMN yamuğunda $[NK] \perp [KL]$ ve $[NK] \perp [NM]$ 'tir. $m(\widehat{KLM}) = 30^\circ$ olduğuna göre $m(\widehat{LMN})$ kaç derecedir?

- A) 170
- B) 150
- C) 130
- D) 110

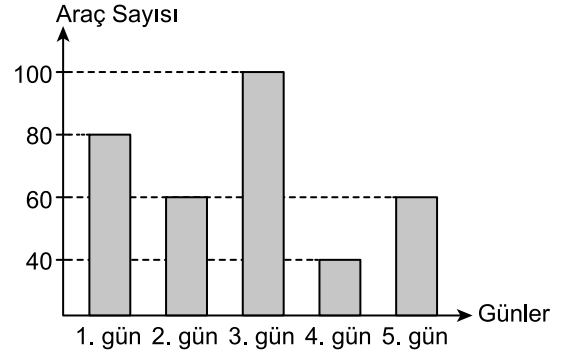
4. Saat 13.00'te hareket eden bir otobüs 2 saat sonra mola veriyor.

Otobüs mola verdiği saat kaçtır?

- A) 14.00
- B) 15.00
- C) 16.00
- D) 17.00

5. Aşağıdaki grafik günlere göre bir otoparktaki araç sayısını göstermektedir.

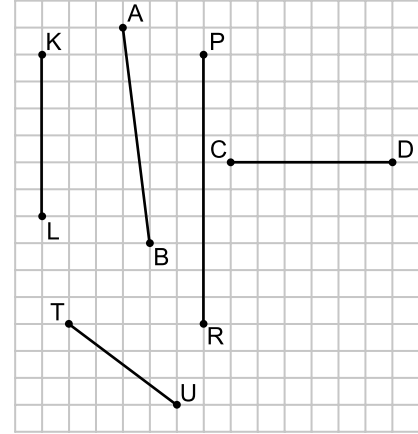
Grafik: Günlere Göre Otoparktaki Araç Sayısı



Grafiğe göre 4. gün bu otoparktaki araç sayısı kaçtır?

- A) 100
- B) 80
- C) 60
- D) 40

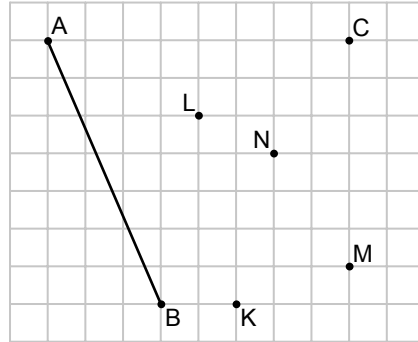
6.



Kareli kâğıt üzerinde verilen doğru parçalarından hangisi $[KL]$ 'na paraleldir?

- A) $[PR]$
- B) $[TU]$
- C) $[AB]$
- D) $[CD]$

7.



Kareli kâğıt üzerinde verilen C noktası ile hangi nokta birleştirilirse $[AB]$ 'na eşit uzunlukta bir doğru parçası elde edilir?

- A) N
- B) M
- C) L
- D) K

1. OTURUM

8. Babası Ahmet'e günlük 5 lira harçlık vermektedir.

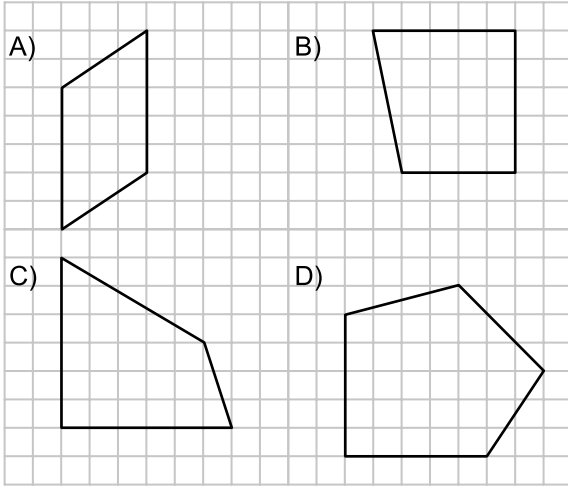
Üçüncü günün sonunda babası Ahmet'e toplam kaç lira harçlık vermiş olur?

- A) 25 B) 20 C) 15 D) 10

9. $\frac{1}{8}$, $\frac{4}{8}$, $\frac{9}{8}$ kesirlerinin doğru sıralanışı aşağıdakilerden hangisidir?

- A) $\frac{9}{8} > \frac{1}{8} > \frac{4}{8}$ B) $\frac{4}{8} > \frac{9}{8} > \frac{1}{8}$
C) $\frac{4}{8} > \frac{1}{8} > \frac{9}{8}$ D) $\frac{9}{8} > \frac{4}{8} > \frac{1}{8}$

10. Kareli kâğıtta verilen şekillerden hangisi bir paralelkenardır?



11. Bir terzi bir top kumaşın ilk gün $\frac{1}{2}$ 'ini, ikinci gün $\frac{1}{4}$ 'ini kullanıyor.

Buna göre terzi ikinci günün sonunda bu top kumaşın kaçta kaçını kullanmıştır?

- A) $\frac{1}{8}$ B) $\frac{1}{6}$ C) $\frac{2}{3}$ D) $\frac{3}{4}$

12. $1,77 + 0,23$ işleminin sonucu kaçtır?

- A) 1 B) 1,1 C) 2 D) 2,1

13. $1\frac{1}{4}$ kesrinin ondalık gösterimi aşağıdakilerden hangisidir?

- A) 0,125 B) 1,25
C) 12,5 D) 125,25

14. 200 liraya alınan bir ürün % 25 kârla satılmıştır.

Buna göre bu ürünün satışından kaç lira kâr elde edilmiştir?

- A) 25 B) 50 C) 75 D) 100

15. 0,04 ondalık gösteriminin yüzde sembolü ile gösterimi aşağıdakilerden hangisidir?

- A) %4 B) %40 C) %44 D) %48

16. Çevresi 60 cm olan bir eşkenar üçgenin bir kenarının uzunluğu kaç santimetredir?

- A) 30 B) 25 C) 20 D) 15

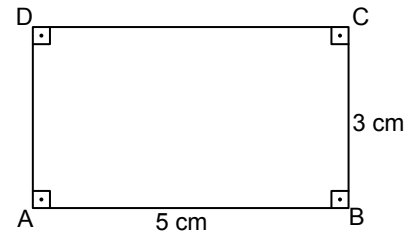
17. 30 sayısının $\frac{2}{3}$ 'si kaçtır?

- A) 10 B) 15 C) 20 D) 25

18. $48 : (18 - 10)$ işleminin sonucu kaçtır?

- A) 4 B) 6 C) 8 D) 10

19.



Şekildeki ABCD dikdörtgeninde $|AB| = 5$ cm ve $|BC| = 3$ cm'dir.

Buna göre $A(ABCD)$ kaç santimetrekaredir?

- A) 30 B) 16 C) 15 D) 8

20. Bir ayırtının uzunluğu 4 cm olan küpün yüzey alanı kaç santimetrekaredir?

- A) 125 B) 96 C) 64 D) 24

1. OTURUM

(552) FEN BİLİMLERİ – 5

1. Öğrenciler şekildeki gibi Güneş, Dünya, Ay modeli oluşturmak istiyorlar.



Buna göre öğrenciler Ay modeli için aşağıdakilerden hangisini kullanabilirler?

- A) Bezelye B) Armut
C) Elma D) Erik

2. Ay'ın Dünya'ya bakan yüzünün tamamen aydınlık görüldüğü evre aşağıdakilerden hangisidir?

- A) Dolunay B) Yeniay
C) İlk dördün D) Son dördün

3. Aşağıdakilerden hangisi deprem sırasında evde yapılması gereken uygulamalardandır?

- A) Raflar duvarlara sabitlenmeli
B) Yanmakta olan ocaklar kapatılmalı
C) Deprem çantası hazırlanmalı
D) Tablo, ayna gibi eşyalar yataktan uzağa asılmalı

4. Yağışların etkisiyle toprağın alt tabakalarının gevşemesi sonucu üst tabakaların yerinden oynayarak hareket etmesine - - - - denir.

Verilen ifadedeki boşluğa aşağıdakilerden hangisi getirilmelidir?

- A) volkanik patlama B) kasırga
C) deprem D) heyelan

5. Fen bilimleri dersinde farklı cisimler kullanarak dinamometre ile yapılan ölçümler tabloda verilmiştir.

Ölçümler	Dinamometrede okunan değer (N)
I	20
II	10
III	40

Buna göre aşağıdakilerden hangisi söylenemez?

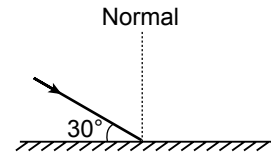
- A) I. ölçümdeki cismin ağırlığı 20 N'dur.
B) II. ölçümdeki cismin ağırlığı 10 N'dur.
C) Dinamometrenin yayı en az I. ölçümde uzamıştır.
D) Dinamometrenin yayı en fazla III. ölçümde uzamıştır.

6. Araç ve makinelerde hareketli parçalar arası yağlanır.

Bu uygulamanın amacı aşağıdakilerden hangisi olamaz?

- A) Makinelerin daha uzun süre kullanılmasını sağlamak
B) Sürtünmeyi azaltmak
C) Aşınmayı azaltmak
D) Makinelerde hareketi engellemek

7. Şekilde düz aynaya gelen bir ışık ışını verilmiştir.



Bu ışının yansıma açısı kaç derecedir?

- A) 30 B) 40 C) 50 D) 60

- 8.



Şekilde verilen düzgün yansıma aşağıdaki yüzeylerin hangisinde gerçekleşmiştir?

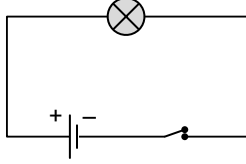
- A) Tahta B) Beton duvar
C) Düz ayna D) Dalgalı su

1. OTURUM

9. Basit bir elektrik devresinde akımın geçmesini kontrol eden devre elemanı aşağıdakilerden hangisidir?

- A) Anahtar
B) Ampul
C) Pil
D) İletken kablo

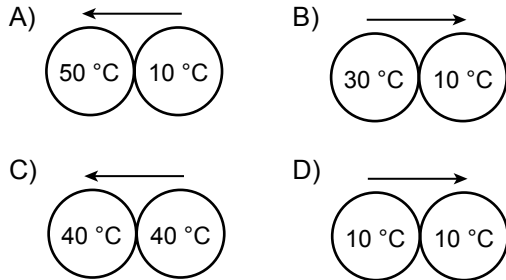
10.



Şekildeki elektrik devresinde ampulün parlaklığını artırmak için aşağıdakilerden hangisi yapılmalıdır?

- A) Pil çıkarılmalı
B) Bir pil daha bağlanmalı
C) Bir ampul daha bağlanmalı
D) Anahtar açılmalı

11. Aşağıdakilerden hangisinde verilen cisimler arasındaki ısı akış yönü doğru verilmiştir?



12. Çiğdem : Sınıfımızın sıcaklığı 25 °C'tur.

Selin : Sobada yanan kömür odaya sıcaklık verir.

Eren : Kardeşimin vücut ısısı 39 °C'a yükseldi.

Yukarıdaki öğrencilerden hangileri ısı ve sıcaklık kavramlarını doğru kullanmıştır?

- A) Yalnız Çiğdem
B) Yalnız Eren
C) Çiğdem ve Selin
D) Selin ve Eren

13. Bazı katı maddeler ısı alarak sıvılaşmadan doğrudan gaz hâline geçer.

Bu olaya ne ad verilir?

- A) Kırışılma
B) Buharlaşma
C) Yoğuşma
D) Süblimleşme

14. I. Donma
II. Kaynama
III. Buharlaşma

Yukarıdaki olaylardan hangileri gerçekleşirken su dışarıdan ısı alır?

- A) Yalnız I
B) Yalnız II
C) II ve III.
D) I, II ve III.

15. Saf maddelerde gerçekleşen erime olayı ile ilgili verilen bilgilerden hangisi yanlıştır?

- A) Erime süresince sıcaklık değişmez.
B) Maddenin erime sıcaklığı donma sıcaklığından farklıdır.
C) Maddeye verilen ısı artırılırsa erime hızlanır.
D) Ortamdan ısı alarak gerçekleşir.

16. Aşağıdakilerden hangisi mikroskopik canlılara örnektir?

- A) Bit
B) Şapkallı mantar
C) Terliksi hayvan
D) Kara yosunu

17. • Kara yosunu
• Papatya
• Çam

Verilen bitkilerin ortak özelliği aşağıdakilerden hangisidir?

- A) Çiçekli olma
B) Tohum verme
C) Meyve verme
D) Fotosentez yapma

18. Tabloda bazı canlılar numaralanarak verilmiştir.

① Timsah	② Toprak solucanı	③ Yarasa
④ Çekirge	⑤ Ördek	⑥ Midye

Bunlardan hangileri omurgalı hayvanlar grubunda yer alır?

- A) 2 ve 4
B) 4 ve 6
C) 1, 3 ve 5
D) 2, 4 ve 6

1. OTURUM

19. Aşağıdakilerden hangisi çevre kirliliğine karşı alınacak önlemlerden değildir?

- A) Yeşil alanlar yerleşim yerlerine dönüştürülmeli
- B) Doğal bitki örtüsü korunmalı
- C) Kâğıt ve cam atıklar geri dönüşüm kutularına atılmalı
- D) Enerji elde etmede güneş ve rüzgâr gibi kaynaklar kullanılmalı

20. Aşağıdakilerden hangisi ülkemizde nesli tükenmiş hayvanlardandır?

- A) Kelaynak
- B) Anadolu leoparı
- C) Deniz kaplumbağası
- D) Akdeniz fokü

(633) SOSYAL BİLGİLER – 6

1. Ülkemizde meydana gelen trafik kazalarında en çok hata payı aşağıdakilerden hangisine aittir?

- A) Sürücü
- B) Araç
- C) Yol
- D) Yaya

2. Aşağıdakilerden hangisi Atatürk'ün sosyal bilgilere önem verdiğini gösterir?

- A) Medeni Kanununun kabulü
- B) Türk Tarih Kurumunun açılması
- C) Aşar vergisinin kaldırılması
- D) Numune Hastanelerinin açılması

3. Haritalarda gördüğümüz dikey çizgilere ne ad verilir?

- A) Paralel
- B) Ekvator
- C) Geoid
- D) Meridyen

4. Aşağıdakilerden hangisi genel haritalardan değildir?

- A) Fiziki haritalar
- B) Siyasi haritalar
- C) İklim haritaları
- D) İdari haritalar

5. Yurdumuzun güney ve batı kıyılarında etkili olan iklim tipi aşağıdakilerden hangisidir?

- A) Karadeniz
- B) Akdeniz
- C) Marmara
- D) Karasal

6. Aşağıdakilerden hangisi Sümerlerin uygarlığa yaptığı katkılardan biri değildir?

- A) Ay yılı takvimini hesaplamışlardır.
- B) İlk tekerlekli arabayı yapmışlardır.
- C) Gılgamış Destanı'nı ortaya koymuşlardır.
- D) Çivi yazısını Anadolu'ya getirmişlerdir.

7. Oğuz Kağan Destanı aşağıdaki Türk topluluklarından hangisine aittir?

- A) Uygurlar
- B) Kök Türkler
- C) Selçuklular
- D) Hunlar

8. Yerleşik hayata geçen ilk Türk topluluğu aşağıdakilerden hangisidir?

- A) Hunlar
- B) Uygurlar
- C) Kök Türkler
- D) Karahanlılar

9. İslam devletinde ilk donanma kim tarafından kurulmuştur?

- A) Hz. Osman
- B) Hz. Ömer
- C) Hz. Ali
- D) Hz. Ebubekir

10. Divan-ı Lügat-it Türk adlı eser kim tarafından yazılmıştır?

- A) Satuk Buğra Han
- B) Kaşgarlı Mahmut
- C) Ahmet Yesevi
- D) Gazneli Mahmut

11. Selçuklu Devleti'nin kuruluş ve gelişmesinde büyük rolü vardır. Kendi adıyla anılan medreseler kurdu muştur. Yönetimle ilgili Siyasetname adlı bir eseri vardır.

Hakkında bilgi verilen Türk büyüğü aşağıdakilerden hangisidir?

- A) Yusuf Has Hacip
- B) Nizamülmülk
- C) Tuğrul Bey
- D) Alparslan


1. OTURUM

12. Aşağıdaki İslam devletlerinden hangisi İspanya'da kurulmuştur?
- A) Karahanlılar B) Emeviler
C) Abbasiler D) Endülüs Emevileri
13. Aşağıdakilerden hangisi Türk Kara Kuvvetlerinin kuruluş tarihi olarak kabul edilmektedir?
- A) M.Ö 199 B) 622
C) M.Ö 209 D) 1071
14. Yurdumuzda en çok üretilen tahıl aşağıdakilerden hangisidir?
- A) Buğday B) Piriç
C) Mısır D) Arpa
15. Türkiye aşağıdaki ürünlerden hangisinin üretiminde dünyada birinci sırada yer almaktadır?
- A) Zeytin B) Fasulye
C) Fındık D) Biber
16. Doğal kaynakların korunmasında geri dönüşümün önemiyle ilgili olarak aşağıdakilerden hangisi yanlıştır?
- A) Enerji tasarrufu sağlanır.
B) Ekonomi için zararlıdır.
C) Atık miktarı azalır.
D) Birçok ürün tekrar tüketime sunulur.
17. Türkiye'nin dışarıdan en fazla aldığı ürün aşağıdakilerden hangisidir?
- A) Petrol B) Et
C) Buğday D) Çay
18. Aşağıdakilerden hangisi Türk Cumhuriyetleri arasında eğitim, kültür ve ekonomik alanlarda iş birliğini sağlamak amacıyla kurulmuştur?
- A) Türksoy B) AFAD
C) Kızılay D) TİKA

19. İlk Anayasamız olan Kanunuesasi'nin 1876'da ilan edilmesiyle Türk tarihinde hangi dönem başlamıştır?
- A) I. Meşrutiyet B) Tanzimat
C) Cumhuriyet D) II. Meşrutiyet
20. Sağlıklı kişilerden alınan kan, kaç hafta içinde vücut tarafından yeniden yerine konur?
- A) 1 B) 2 C) 3 D) 4


(634) İNGİLİZCE – 6

1-20. sorularda boşluğa uygun gelen kelime ya da ifadeyi işaretleyiniz.

1. It is - - - - apple.
- A) - B) a C) an D) the
2. One, two, three, four, - - - -, six, seven, eight.
- A) zero B) five C) nine D) ten
- 3.
- 
- She is a - - - - .
- A) nurse B) teacher
C) pilot D) student
- 4.
- | | |
|---------|----------|
| Turkey | Turkish |
| Germany | German |
| Ireland | - - - - |
| Egypt | Egyptian |
- A) Italian B) Poland
C) Spanish D) Irish

1. OTURUM

5.



----- apples are very tasty.

- A) That B) These
C) This D) It

6. **Jane:** What colour is your T-shirt?

Mark: -----.

- A) It is fat
B) It is dirty
C) It is medium size
D) It is black and white

7. **Max** : -----?

Cesur : Kaan.

- A) What is this
B) How old are you
C) Who has got a car
D) What have you got

8.



Tim : -----?

Nil : I have got two books.

- A) Have you got books and pencils
B) How many books have you got
C) What is the name of the book
D) How much are the books

9.



John : What is the time?

Emilia : -----.

- A) It's four thirty
B) It's four o'clock
C) It's half past four
D) It's twenty to four

10. **Martin** : -----?

Shop assistant : It's £ 30.

- A) Is it small size
B) What colour is it
C) Can I try on, please
D) How much is this shirt

11. ----- is the fourth month of the year.

- A) January B) February
C) April D) July

12.



Adana is in the ----- of Turkey.

- A) south B) north
C) west D) east

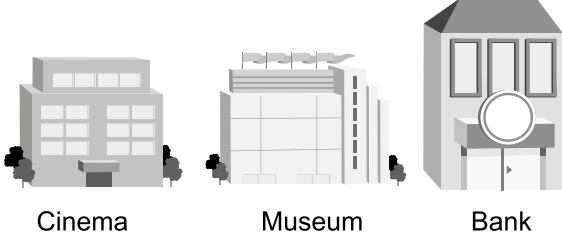
13. **Steve:** How many languages can you speak?

Sarah: -----.

- A) I can speak four languages
B) I can sing English songs
C) I can't speak German
D) I can't speak well

1. OTURUM

14.



The museum is - - - the cinema and the bank.

- A) opposite B) under
C) between D) on

15. İdil doesn't like - - - TV.

- A) drinking B) watching
C) visiting D) eating

16. I like Science and I am good - - - it.

- A) in B) for C) on D) at


17. There is a - - - of bread in the kitchen.

- A) loaf B) bottle
C) bar D) tin

18. It - - - heavily outside at the moment.

- A) rain B) rains
C) is raining D) is going to rain

19.



Dad: What is the weather like today?

Son: It is - - - .

- A) foggy B) sunny
C) windy D) rainy

20. Sean : There is a good film at City Cinema. - - - .

Mike : That's a good idea. What time does it start?

- A) We can go home
B) I like watching TV
C) I have a lot of DVDs
D) Let's go to the cinema

(634) ALMANCA – 6

1-19. sorularda boş bırakılan yere uygun gelen ek, kelime ya da ifadeyi işaretleyiniz.

1. A : - - - - du Mustafa oder Ali?

B : Ich - - - - Mustafa.

- A) Bist / bin B) Ist / sein
C) Bin / bist D) Sein / ist

2. A : - - - - gehst du essen?

B : - - - - 12 Uhr.

- A) Wo / Bei B) Wann / Um
C) Wie / Mit D) Wohin / Im

3. A : - - - - du eine neue Brille?

B : Ja, ich - - - - eine neue Brille.

- A) Haben / habe B) Habt / habt
C) Hast / habe D) Hat / haben

4. A : - - - - ?


B : Eine Suppe.

- A) Wer bist du?
B) Was liest du?
C) Wie schreibst du?
D) Was isst du?

5. Das ist ein - - - - .



Das sind - - - - .



- A) Tisch / Tische B) Stuhl / Stühle
C) Tasche / Taschen D) Stift / Stifte

1. OTURUM


6. **A** : ---- ?
B : Sie ist 45 Jahre alt.
- A) Wer ist deine Mutter?
B) Wie alt ist dein Vater?
C) Wie alt ist deine Mutter?
D) Wo wohnt dein Vater?

7. **A** : ---- ?
B : Mehmet.
- A) Wie heisst deine Schwester?
B) Wer ist deine Mutter?
C) Wo ist dein Bruder?
D) Wie heisst dein Vater?

8. **A** : ---- ?
B : Eine Cola.
- A) Wer bist du
B) Wie heit du
C) Was trinkst du
D) Was isst du

9. **A** : ---- Susi aus Mnchen?
B : Nein, sie ---- aus Stuttgart.
- A) Kommen / kommt
B) Kommt / kommt
C) Kommst / komme
D) Komme / komme

10. **A** : Ist das eine Tr?
B : Nein, das ist ein ---- .



- A) Fenster
B) Brille
C) Tisch
D) Stuhl

11. **A** : Wo wohnen Sie?
B : ---- .
- A) Nach Ankara
B) In Ankara
C) Bei Ankara
D) Aus Ankara

12. **Wann ---- der Bus nach Istanbul?**
- A) fahre
B) fhrst
C) fahren
D) fhrt


13. **Mai, ---- , Juli.**
- A) Juni
B) April
C) August
D) September

14. **achtundzwanzig, ---- , dreiig.**
- A) sechszwanzig
B) neunundzwanzig
C) neunzehn
D) einunddreiig

15. **A** : ---- .
B : Ins Kino.
- A) Wie alt bist du?
B) Wo wohnst du?
C) Wohin gehst du?
D) Wann schlfst du?

16. **A** : Was mchten die Gste ---- ?
B : Kaffee.
- A) trinke
B) trinkst
C) trinkt
D) trinken

17. **A** : Wie spt ist es?
B : Es ist ---- .



- A) halb acht
B) halb sieben
C) viertel nach sieben
D) viertel nach acht

1. OTURUM

18. Susan kann gut Deutsch - - - - .

- A) kaufen B) sprechen
C) fahren D) schwimmen

19. A : - - - - du ein Auto?

B : - - - - , ich habe ein Auto.

- A) Hast / Nein B) Bist / Sind
C) Hast / Ja D) Ist / Ist

20. Aşağıdakilerden hangisi sıfat değildir?

- A) braun B) dünn
C) teuer D) März

(634) FRANSIZCA – 6

1-13. sorularda boş bırakılan yere uygun gelen kelime ya da ifadeyi işaretleyiniz.

1. Elle est - - - - .

- A) turque B) allemand
C) turc D) français

2. Mine : Il a - - - - ?

Léa : Il a treize ans.

- A) quel âge B) pourquoi
C) quelle D) comment

3. Victor : - - - - allez-vous ?

Marie : Très bien, merci. Et vous ?

- A) Quelle B) Parce que
C) Comment D) Pourquoi

4. Murat : Tu es mariée ?

Céline : Oui, je suis - - - - . J'ai deux filles.

- A) célibataire B) mariée
C) veuve D) belle

5. - - - - est la tour de Pise ?

- A) Quand B) Ou
C) Combien D) Où

6. Dans les pâtisseries, on vend - - - - .

- A) des fruits B) des légumes
C) des médicaments D) des gâteaux

7. Diane : Barış aime le café au lait ?

Canan : Non, il - - - - le café au lait.

- A) n'aime pas B) ne pas aimer
C) aimer D) a aimé

8. Pauline : - - - - est-ce que tu bois du jus d'orange ?

Pierre : Parce que j'ai très soif.

- A) Comment B) Pourquoi
C) Quelle D) Où

9. Marc : Elif boit du chocolat chaud ?

Sıla : Non, elle ne boit jamais - - - - chocolat chaud.

- A) du B) de C) des D) les

10. Adnan travaille - - - - Lyon - - - - France.

- A) à / aux B) au / à
C) à / en D) aux / à

11. M.Leroux : Qui est-ce ?

Yeşim : C'est - - - - .

- A) un bébé B) une voiture
C) une chemise D) un tableau

12. Il va acheter des billets de train - - - - .

- A) au cinéma B) à la bijouterie
C) au café D) à la gare

1. OTURUM

13. Alex : - - - - ?

Zoé : Non merci, je viens de boire du thé.

- A) Un serveur B) Un théâtre
C) Un café D) Un jardin

14. Aşağıdakilerden hangisi "80" sayısının doğru yazılışdır?

- A) Quatre-vingt-un B) Quatre-vingts
C) Soixante treize D) Soixante-dix

15-20.soruları resimleri dikkate alarak cevaplayınız.

15.




Le théâtre est - - - - .

- A) devant l'hôtel
B) entre la poste et la mairie
C) en face du parking
D) à côté du cinéma

16. Le café est - - - - .

- A) en face du parking
B) devant l'hôtel
C) entre la poste et la mairie
D) à côté du théâtre

17.



Il est - - - - .

- A) dix heures et demie
B) dix heures
C) dix heures et quart
D) dix heures moins le quart

18.



Il est - - - - et il porte - - - - .

- A) blond / un foulard
B) jeune / une casquette
C) sérieux / une bague
D) souriant / une cravate


19.



Il est - - - - .

- A) mécanicien B) dentiste
C) médecin D) chanteuse

20.



Il est - - - - .

- A) neuf heures et demie
B) neuf heures moins le quart
C) neuf heures et quart
D) neuf heures treize

1. OTURUM

(635) DİN KÜL. VE AHLAK BİLGİSİ – 6

1. Mevlana, öleceği günü aşağıdaki kavramlardan hangisiyle ifade etmiştir?

- A) Şebi Arus B) Yevmü'l-Hasre
C) Şebi Yelda D) Yevmü'l-Vasıl

2. Astronomi alanındaki çalışmalarıyla tanınan Müslüman Türk bilgini aşağıdakilerden hangisidir?

- A) Farabi B) İbn Sina
C) Harezmi D) Ali Kuşçu

3. İlim ilim bilmektir
İlim kendin bilmektir.
Sen kendini bilmezsin
Ya nice okumaktır.

Bu dörtlük Türklerin İslam anlayışının oluşmasında etkili olan âlimlerden hangisine aittir?

- A) Hacı Bektaş Veli B) Ahmet Yesevi
C) Yunus Emre D) Ahi Evran

4. • İslam dininin inanç esaslarını Kur'an ve Sünnete göre açıklamıştır.
• Başlıca eserleri "Kitabüt-Tevhid", "Te'vilatü'l-Kur'an" ve "Kitabü'l Makâlât"dır.

Hakkında bilgi verilen İslam âlimi aşağıdakilerden hangisidir?

- A) Ebu Hanife B) Maturidi
C) Eş'ari D) Ebu Yusuf

5. Kelime olarak büyüklük, büyük olma, kendini başkalarından üstün görme vb. anlamlara gelir. Kur'an'da isyan eden şeytanın sıfatı olarak geçer. İslam dini, bu tür tutum ve davranışı yasaklamıştır.

Hakkında bilgi verilen kavram aşağıdakilerden hangisidir?

- A) İftira B) Gıybet
C) Zan D) Kibir

6. I. Anne ve babaya iyi davranmak
II. Düzenli beslenmek
III. Büyükmek
IV. Namaz kılmak

Bunlardan hangileri ahlaki görevlerdir?

- A) I ve III. B) I ve IV.
C) II ve III. D) II ve IV.

7. Kur'an'ın 113. suresidir. Mekke'de indirilmiştir. Beş ayettir. Sabah (şafak) manasına gelir. Surenin konusu, insana zarar verebilecek doğadaki olaylar, cehalet ve bilgisizlik, bozgunculuk ve kıskançlıktır. Ayrıca surede, bu tür kötülüklerden Allah'a sığınmamız gerektiği anlatılır.

Hakkında bilgi verilen sure aşağıdakilerden hangisidir?

- A) Nasr B) Nas C) Felak D) Fil

8. "Emrolundukları dinî hükümleri tüm insanlara olduğu gibi bildirmek." anlamına gelen ve peygamberlerin ortak özelliğini ifade eden kavram aşağıdakilerden hangisidir?

- A) İsmet B) Tebliğ
C) Sıdk D) Fetanet

9. Sabır ile özdeşleşen peygamber kimdir?

- A) Hz. İbrahim B) Hz. Musa
C) Hz. Eyüp D) Hz. Süleyman

10. "Ant olsun zamana ki insan gerçekten ziyan içindedir. Ancak iman edip de salih ameller işleyenler ile birbirlerine hakkı ve sabrı tavsiye edenler başka. Onlar ziyanda değillerdir."

Bu metin aşağıdaki surelerden hangisinin mealidir?

- A) Nas B) Nasr C) Maun D) Asr

1. OTURUM

11. Ey insanlar! Sözümlü iyi dinleyiniz. Bilmiyorum, belki bu seneden sonra sizinle burada ebedî olarak bir daha buluşamayacağım. Ey insanlar bu günleriniz nasıl mukaddes bir gün ise, bu aylarınız nasıl mukaddes bir ay ise, bu şehriniz nasıl mübarek bir şehir ise; canlarınız, mallarınız ve ırzlarınız da öyle mukaddestir, her türlü saldırıdan emindir...”

Hz. Peygamber'in bu konuşmayı yaptığı yer aşağıdakilerden hangisidir?

- A) Taif B) Arafat
C) Mescid-i Nebi D) Uhud

12. İslam dininde beş vakit namaz kılmanın hükmü nedir?

- A) Farz B) Mübah
C) Sünnet D) Müstehap

13. • Yahudiler kendi dinlerinde serbest olacaklar.
• Müslümanlarla Yahudiler barış içinde yaşayacaklar.
• İki taraftan biri, savaşırsa diğer taraf yardımcı olacak.
• Müslümanlarla Yahudiler arasında çıkacak her türlü anlaşmazlıkta Hz. Peygamber hakem olacak.

Bu kararlar aşağıdakilerin hangisinde alınmıştır?

- A) Akabe biatları
B) Medine Sözleşmesi
C) Boykot uygulaması
D) Hudeybiye Antlaşması

14. Mekke'den Medine'ye hicret eden Müslümanlara ne denir?

- A) Ensar B) Mevali
C) Tabiin D) Muhacir

15. Hicret olayı hangi tarihte gerçekleşmiştir?

- A) 620 B) 621 C) 622 D) 624

16. I. Bayram namazları
II. Cuma namazı
III. Beş vakit namaz
IV. Teravîh namazı

Bunlardan hangileri sadece cemaatle kılınabilir?

- A) I ve II. B) I ve IV.
C) II ve III. D) III ve IV.

17. Teravîh namazı ne zaman kılınır?

- A) Kandil gecelerinde
B) Cuma gecelerinde
C) Ramazan ayında
D) Muharrem ayında

18. Rükûsu ve secdesi olmayan namaz türü aşağıdakilerden hangisidir?

- A) Vitir B) Bayram
C) Hacet D) Cenaze

19. Akşam namazı sünnetleriyle birlikte kaç rekâttır?

- A) 4 B) 5 C) 6 D) 7

20. Suyun bulunmadığı, temiz olmadığı veya kullanılmasının insan sağlığı açısından tehlike oluşturduğu durumlarda toprakla alınan abdesti ifade eden kavram aşağıdakilerden hangisidir?

- A) Teyemmüm B) Gusül
C) Gasl D) Mesh

(730) TÜRKÇE – 7

1. Aşağıdaki cümlelerin hangisinde “çıkma” sözcüğü “talihine veya payına düşmek, isabet etmek” anlamında kullanılmıştır?

- A) Kravatın boyası gömleğe çıktı.
B) Ezgi'ye çekilişten araba çıkmış.
C) Bu kumaştan bir palto çıkar mı?
D) Dayım az önce dışarıya çıktı.

2. Aşağıdaki cümlelerin hangisinde altı çizili deyim “bir sözü tam söylememek, ağzının içinde mırıldanmak” anlamında kullanılmıştır?

- A) Acemi oyuncu kameralar karşısında eveleyip geveledi.
B) O kadar eziyet etmelerine rağmen gıki çıkmadı.
C) “Aaa hiç olur mu!” cümlesini de laf olsun âdet yerini bulsun diye söylemişti.
D) Nedendir bilinmez, iş yerinde her gün hırgür çıkarırdı.

1. OTURUM

3. Aşağıdaki cümlelerin hangisinde altı çizili sözcük terim anlamlı değildir?

- A) Çocuk birçok şarkıyı notalarına bakarak çalabiliyor.
B) Kapıdan çıkarken usulca gülümsüyordu.
C) Günümüzde 119 elementin varlığı bilinmektedir.
D) Futbolcu penaltı vuruşunu auta attı.

4. Bir yağmur damlasıyım

1

Bana her baktığında

2 3

Yüzüne düşüp dağılıyorum

4

Bu dizelerdeki numaralanmış sözcüklerden hangisi eş seslidir?

- A) 1. B) 2. C) 3. D) 4.

5. Dinleyici onaylamadığı veya anlamadığı yerleri, kafasına takılan soruları konuşmacıya iletir. Böylece aktif bir katılım sergiler.

Bu dinleme türü aşağıdakilerden hangisidir?

- A) Not olarak dinleme
B) Seçici dinleme
C) Katılımlı dinleme
D) Yaratıcı dinleme

6. Aşağıdakilerden hangisi bilim insanlarına göre okumanın temel amaçlarından değildir?

- A) Okunan metni değerlendirmek
B) Belli bir soruyu yanıtlamak
C) Okunanları yaşam içinde uygulamak
D) Okunan metni ezberlemek

7. Aşağıdaki türlerden hangisi öğretici metin değildir?

- A) Eleştiri B) Roman
C) Makale D) Röportaj

8. (1) Hayatı da yazdıkları kadar ilginç olan bir yazardır. (2) Yüzden fazla kitap yazmıştır. (3) Bir romanı televizyon dizisi olarak uyarlanmıştır. (4) Bu dizi, izleyenleri kısa sürede etkisi altına almıştır.

Bu metindeki numaralanmış cümlelerin hangisinde karşılaştırma yapılmıştır?

- A) 1. B) 2. C) 3. D) 4.

9. Aşağıdakilerden hangisi bir metnin giriş cümlesi olmaya uygundur?

- A) Daha önce sözü edilen bilgileri, tarihî kaynaklar da kanıtlar niteliktedir.
B) Hâlbuki insanoğlunun gelişimi başlarda yaşam ve doğal çevre ile uyum içinde sürmüştür.
C) Bu durum insana Çinlilerin özdeyişini hatırlatıyor.
D) Günümüzde çevre kirliliği, tüm gezegeni ilgilendiren bir sorundur.

10. (1) Köstebeklerin, toprağı kazmaya yarayan kalın pençeleri bulunur. (2) Köstebekler, kazarak toprağın altında tüneller oluşturur. (3) Derisinden kürk yapılıdır. (4) Kazarken tünelin içindeki toprağı yüzeye doğru ittiklerinden yüzeyde tepecikler oluşur.

Numaralanmış cümlelerden hangisi bu metnin anlam bütünlüğünü bozmaktadır?

- A) 1. B) 2. C) 3. D) 4.

11. Şakacı çocuğun içi daralıyordu. Onun için sıkıcı bir gündü. Önce kırkayaklara romatizma, sümüklü böceklere nezle ilacı buldu. Keyfi biraz yerine geldi. Şakacılığının yanına bilginliğini de ekleyince çok şeyler başaracağına inandı. Hemen ardından karıncalara pabuçlar giydirdi. Yaptıklarından dolayı havalara uçtu.

Bu metin ile ilgili aşağıdakilerden hangisi söylenemez?

- A) Hayalî unsurlar vardır.
B) Duygulara yer verilmiştir.
C) Olay belli bir mekânda gerçekleşmiştir.
D) Deyimlere yer verilmiştir.

1. OTURUM

12. 1. Elimde 534 sayfalık bir kitap var.
2. Bu çizimler iç karartacak denli kara.
3. Kitabın içinde ise siyah beyaz çizimler var.
4. Bu kitabın kapağında güzel mesajlar veren renkli resimler bulunuyor.

Numaralanmış cümlelerle anlamlı bir metin oluşturulduğunda sıralama nasıl olmalıdır?

- A) 1-2-4-3
B) 1-4-3-2
C) 3-4-2-1
D) 3-2-4-1

13. Bölgede 32 yürüyüş ve koşu parkuru bulunmaktadır. Bisiklet yolları ve dağ bisikleti imkânları da var. Ayrıca bir kuş gözlemevi, engelliler için de hazırlanmış orman gezi parkı doğa severleri bekliyor. Nehirleri bir tekne turu ile yorulmadan veya kiralık su bisikleti, sandal ile de keşfedebilirsiniz Ağva'da.

Bu metin aşağıdaki sorulardan hangisine cevap vermez?

- A) Ağva'da neler yapılabilir?
B) Ağva'daki nehirler nasıl keşfedilebilir?
C) Ağva'da spor yapma olanağı var mıdır?
D) Ağva, tarihî dokusunu kaybetmiş midir?

14. Dünyada insan eliyle yapılmış birçok ilginç yapı vardır. Buna en güzel örnek Mısır'daki piramitlerdir. Mısır'ın başkenti Kahire yakınlarında bulunan Keops; Kefren ve Mikerinos piramitlerinden daha büyüktür. Yapımında 2,5 ton ağırlığında 2 milyon 300 bin taş kullanılmıştır.

Bu metinde aşağıdaki düşünceyi geliştirme yollarından hangisi yoktur?

- A) Tanık gösterme
B) Sayısal ifadelerden yararlanma
C) Karşılaştırma
D) Örnekleme

15. Cümlede vurgu, yüklemden hemen önceki ögedir.

Bu açıklamaya göre aşağıdaki cümlelerin hangisinde "tarla" sözcüğü vurgulanmıştır?

- A) Çiftçi yazın traktörle tarlasını sürdü.
B) Yazın traktörle tarlasını çiftçi sürdü.
C) Tarlasını çiftçi traktörle yazın sürdü.
D) Çiftçi tarlasını yazın traktörle sürdü.

16. Aşağıdaki cümlelerin hangisinde olumsuz çekimlenmiş fiil kullanılmıştır?

- A) Hikâyenin sonunu belki biliyorsunuzdur.
B) Dayım bu akşam uçakla gelecek.
C) Bugünkü toplantıya katılmadı.
D) Çocuk elindeki dondurmaya afiyetle yedi.

17. Aşağıdaki cümlelerin hangisinde altı çizili sözcük ölçü (miktar) zarfıdır?

- A) Yarın Mehmet'e gidiyoruz.
B) Dişlerini günde iki kere fırçalar.
C) Yeni eşyalar haftaya gelecek.
D) Çocuk, şiiri utanarak okudu.

18. Birden fazla sözcüğün, fiil anlamı verecek biçimde bir araya gelmesiyle oluşan sözcüklere birleşik fiil denir.

Aşağıdaki altı çizili sözlerden hangisi birleşik fiildir?

- A) Sonbahar gelince bütün yapraklar sararır.
B) Kitap, genç yaşlı herkese hitap ediyor.
C) İhsan, annesinin sözünü her zaman dinler.
D) Televizyon izlemek için koltuğa uzandı.

19. Aşağıdaki cümlelerde altı çizili birleşik sözcüklerden hangisinin yazımı yanlıştır?

- A) Çayını içtikten sonra annesine teşekkür etti.
B) Yıllarca çalışarak zengin oldu.
C) Yüzündeki sivilceler birden kayboldu.
D) Bir seferliğine de olsa arkadaşını af etti.

20. Akçaabat () a mı yolunuz düştü () Kesinlikle Hıdırnebi Yaylası'na çıkın () Ayrıca buradan Akçaabat köftesi ve Laz böreği yemeden de ayrılmayın ()

Bu metinde ayrıca gösterilen yerlere sırasıyla aşağıdaki noktalama işaretlerinden hangileri getirilmelidir?

- A) (') (.) (;) (.)
B) (-) (?) (.) (...)
C) (') (?) (.) (.)
D) (-) (.) (;) (...)

1. OTURUM

(731) MATEMATİK – 7

1. $3 \cdot (-4)$ işleminin sonucu kaçtır?

- A) -24 B) -12 C) 12 D) 24

2. $(-3) \cdot (-3)$ ifadesinin üslü gösterimi aşağıdakilerden hangisidir?

- A) 2^{-3} B) 2^3 C) $(-3)^{-2}$ D) $(-3)^2$

3. $3!$ aşağıdakilerden hangisine eşittir?

- A) 3 B) 5 C) 6 D) 9

4. $\frac{3}{20}$ sayısı aşağıdakilerden hangisine eşittir?

- A) 0,06 B) 0,12 C) 0,15 D) 0,18

5. Bir pantolonun satış fiyatı 100 liradan 80 liraya düşmüştür.

Buna göre bu pantolonun satış fiyatında yüzde kaç indirim yapılmıştır?

- A) 20 B) 30 C) 40 D) 50

6. Ayla 24 tane şekerinin $\frac{1}{4}$ 'ini Sıla'ya vermiştir.

Buna göre Ayla'nın geriye kaç şekeri kalmıştır?

- A) 20 B) 18 C) 16 D) 14

7. Bir torbada kırmızı ve beyaz bilyeler vardır. Bu torbadaki kırmızı bilyelerin sayısının beyaz bilyelerin sayısına oranı $\frac{1}{2}$ 'dir.

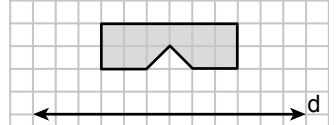
Bu torbada 16 tane kırmızı bilye olduğuna göre kaç tane beyaz bilye vardır?

- A) 8 B) 20 C) 24 D) 32

8. Bir dörtgenin iç açılarının ölçüleri toplamı kaç derecedir?

- A) 180 B) 360 C) 540 D) 720

9. Kareli kâğıtta verilen yandaki şeklin d doğrusuna göre yansıma altındaki görüntüsü aşağıdakilerden hangisidir?



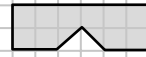
A)



B)



C)



D)

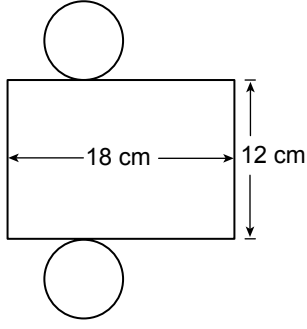


10. $2x - 4 = 2$ olduğuna göre x kaçtır?

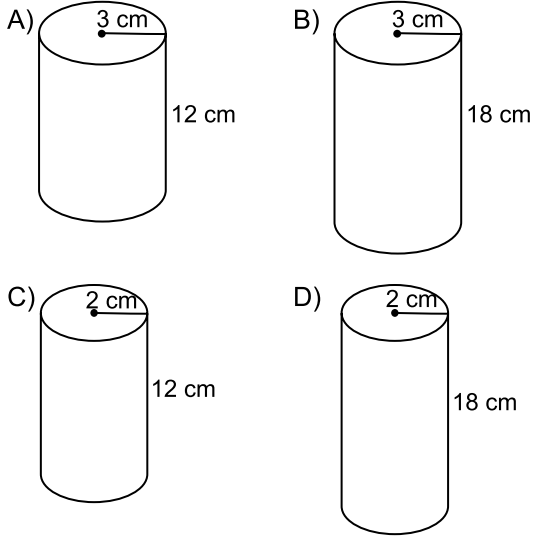
- A) 5 B) 4 C) 3 D) 2

1. OTURUM

11.



Yukarıda açınımlı verilen dik dairesel silindir aşağıdakilerden hangisidir? (π 'yi 3 alınız.)



12. 8, 9, 11, 12, 13, 16, 17

Yukarıdaki veri grubunun ortanca değeri kaçtır?

A) 9 B) 11 C) 12 D) 16

13. Yarıçapının uzunluğu 6 cm olan dairenin alanı kaç santimetrekaredir? (π 'yi 3 alınız.)

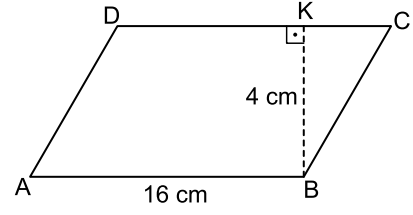
A) 108 B) 72 C) 54 D) 36

14. Taban yarıçapının uzunluğu 4 cm olan dik dairesel silindir şeklindeki bir kutunun yüksekliği 10 cm'dir.

Buna göre bu kutunun yanal yüzünün alanı kaç santimetrekaredir? (π 'yi 3 alınız.)

A) 80 B) 120 C) 240 D) 400

15.



Şekildeki ABCD paralelkenarında $[BK] \perp [DC]$, $|AB| = 16$ cm ve $|BK| = 4$ cm'dir. Buna göre $A(ABCD)$ kaç santimetrekaredir?

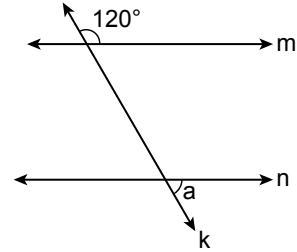
A) 128 B) 64 C) 40 D) 32

16. 1'den 10'a kadar olan doğal sayılar özdeş 10 karta teker teker yazılarak bir torbaya konuluyor.

Torbadan rastgele çekilen bir kartın üzerinde yazan sayının tek sayı veya 4 olma olasılığı kaçtır?

A) $\frac{1}{10}$ B) $\frac{1}{5}$ C) $\frac{3}{5}$ D) $\frac{7}{10}$

17.



Şekilde birbirine paralel olan m ve n doğrularını k doğrusu kesmektedir.

Verilenlere göre a kaç derecedir?

A) 50 B) 60 C) 70 D) 80

18. 5 kişi yan yana kaç farklı şekilde sıralanabilir?

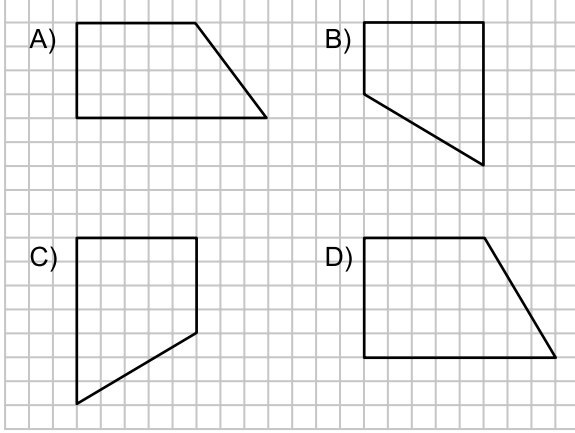
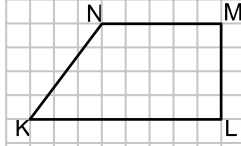
A) 15 B) 60 C) 90 D) 120

19. Yarıçapının uzunluğu 5 cm olan çemberin uzunluğu kaç santimetredir? (π 'yi 3 alınız.)

A) 30 B) 45 C) 60 D) 75

1. OTURUM

20. Aşağıdaki dörtgenlerden hangisi verilen KLMN dörtgenine eşittir?



(732) FEN BİLİMLERİ – 7

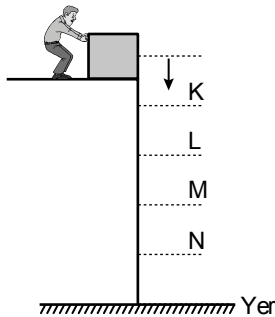
1. Yayların özellikleri ile ilgili verilen;

- I. Kuvvetin etkisi ile şekilleri hiçbir zaman değişmez.
- II. Kuvvetin etkisi ile gerilip sıkıştırılabilir.
- III. Uzama miktarı uygulanan kuvvetle doğru orantılıdır.

bilgilerinden hangileri doğrudur?

- A) Yalnız I B) Yalnız III
C) II ve III. D) I, II ve III.

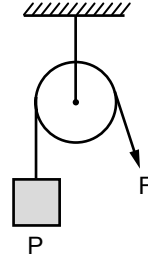
2. Şekilde belirli bir yükseklikte bulunan sandık aşağıya itilecektir.



Bu sandık itildiğinde yere düşerken çekim potansiyel enerjisi, K, L, M ve N noktalarından hangisinde en küçük olur?

- A) K B) L C) M D) N

3. Şekildeki sabit makara ile P yükü yukarı çıkarılmaktadır.



Bu durumla ilgili olarak aşağıdakilerden hangisi söylenemez?

- A) Kuvvetten kazanç sağlanır.
B) Yoldan kazanç yoktur.
C) Kuvvetin yönü değişir.
D) İş yapma kolaylığı sağlanır.

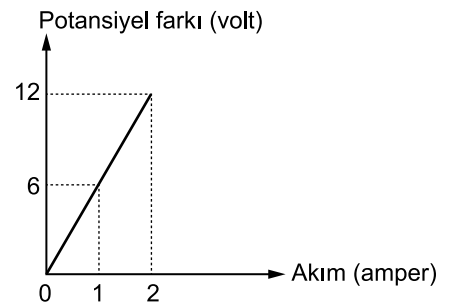
4. Nötr bir elektroskoba yüklü bir cisim yaklaştırıldığında,

- I. Elektroskobun topuzunun cismin yükü ile zıt yüklenmesi
- II. Yaprakların aynı yükle yüklenmesi
- III. Yaprakların kapanması

durumlarından hangileri gerçekleşir?

- A) Yalnız I B) I ve II.
C) II ve III. D) I, II ve III.

5. Fen Bilimleri dersinde öğrencilerin kurduğu elektrik devresinin potansiyel farkı-akım grafiği verilmiştir.



Buna göre devrenin direnci kaç ohm'dur?

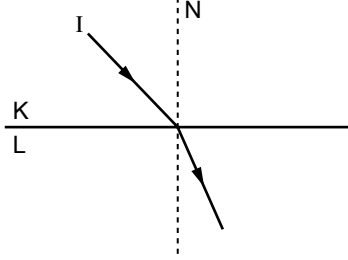
- A) 2 B) 6 C) 12 D) 24

1. OTURUM

6. Aşağıdakilerden hangisi insan gözünün algılayabileceği ışık türüdür?

- A) Gama ışınları
- B) Kızıl ötesi ışınlar
- C) Mor ötesi ışınlar
- D) Görünür ışık

7. Şekilde I ışınının K ortamından L ortamına geçişi gösterilmiştir.



Buna göre K ve L ortamları hangisinde doğru verilmiştir?

K	L
A) Su	Hava
B) Hava	Su
C) Cam	Hava
D) Cam	Su

8. Gece ve gündüz oluşumunun nedeni aşağıdakilerden hangisidir?

- A) Dünya'nın kendi eksenini etrafında dönmesi
- B) Ay'ın Dünya etrafında dönmesi
- C) Dünya'nın Güneş etrafında dönmesi
- D) Ay'ın kendi eksenini etrafında dönmesi

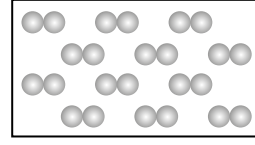
9. Aşağıda verilen gök cisimlerinden hangisi yıldızdır?

- A) Güneş
- B) Satürn
- C) Jüpiter
- D) Venüs

10. Atom ile ilgili verilen bilgilerden hangisi doğrudur?

- A) Proton sayısı kütle numarasına eşittir.
- B) Nötronlar artı (+) yüklü taneciklerdir.
- C) Bir elementin tüm atomları aynı sayıda proton içerir.
- D) Elektronlar yüksüz taneciklerdir.

11. Şekilde oksijen elementinin molekül modeli verilmiştir.



Buna göre oksijen molekülü ile ilgili aşağıdakilerden hangisi söylenemez?

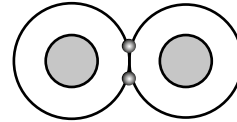
- A) Saf maddedir.
- B) Molekül formülü OH dir.
- C) Her bir molekül aynı özellik gösterir.
- D) İki aynı cins element atomunun bağlanmasıyla oluşmuştur.

12. • Moleküler yapıli bileşiktir.
• Aralarında kovalent bağ vardır.
• İki hidrojen bir oksijen atomundan oluşmuştur.

Verilen özellikler formülle gösterilen hangi bileşiğe aittir?

- A) CO₂
- B) OH
- C) NH₃
- D) H₂O

13. Şekilde hidrojen molekülünün modeli verilmiştir.



Buna göre aşağıdakilerden hangisi söylenemez?

- A) Aynı cins element atomlarından oluşmuştur.
- B) İki elektron ortaklaşa kullanılmıştır.
- C) Aralarında iyonik bağ bulunur.
- D) Son katmanlarındaki elektronları ikiye tamamlayarak dublet kuralına uymuştur.

14. Bir bardak su içine bir tane kesme şeker atılarak elde edilen seyreltik çözelti ile ilgili aşağıdakilerden hangisi söylenir?

- A) Çözünen ve çözücü madde miktarı eşittir.
- B) Çözünen miktarı çözücü miktarından fazladır.
- C) Bir miktar su eklenirse daha seyreltik hâle gelir.
- D) Bir kaç şeker atılırsa daha seyreltik hâle gelir.

1. OTURUM

15. • Hem mekanik hem de kimyasal sindirimi gerçekleştirir.
• Kasılıp gevşeme hareketi ile mekanik sindirim yapar.
• Proteinlerin kimyasal sindirimi burada başlar.

Sindirim ile ilgili görevleri verilen organ aşağıdakilerden hangisidir?

- A) Ağız B) Mide
C) İnce bağırsak D) Kalın bağırsak

16. Böbreklere gelen kandaki atık maddeleri süzme işlemi hangi yapı tarafından gerçekleştirilir?

- A) Nefron B) Üreter
C) Üretra D) İdrar kesesi

17. Aşağıdakilerden hangisi sonradan kazanılan refleks örneklerinden biri değildir?

- A) Limon görünce ağzın sulanması
B) Yüksek sestten ürkme
C) Bisiklet sürme
D) Örgü örme

18. Aşağıda verilen bilgilerden hangisi astigmatlık göz kusuruna ait değildir?

- A) Cisimler bulanık olarak görülür.
B) Göz merceği pürüzlü bir hâl alır.
C) Gözü hareket ettiren kaslarda uyum bozular.
D) Çeşitli mercekler kullanılarak düzgün görüntü elde edilebilir.

19. Üreticilerle ilgili verilen bilgilerden hangisi yanlıştır?

- A) Su ve karbondioksitten organik besin maddeleri sentezler.
B) Besin üretmek için gerekli enerjiyi güneş ışığından sağlar.
C) Topraktaki canlı atıklarını parçalayarak mineralin artmasını sağlar.
D) Kendi besinlerini kendileri yapar.

20. Türkiye’de bitki ve hayvan türlerinin çeşitli ve fazla olmasında,

- I. Farklı ekolojik yapıya sahip bölgelerin olması
II. Değişik iklim yapısına sahip bölgelerin olması
III. Farklı coğrafi konumu ve jeolojik yapısının olması

durumlarından hangileri etkilidir?

- A) Yalnız I B) I ve II.
C) II ve III. D) I, II ve III.

(834) T.C. İNK. TAR. VE ATATÜRK. – 8

1. Mustafa Kemal Harp Akademisi’nden hangi rütbeyle mezun olmuştur?

- A) Teğmen B) Yüzbaşı
C) Kurmay Yüzbaşı D) Kurmay Yarbay

2. Mustafa Kemal dünya çapında tanınmasını sağlayan askeri başarılarını hangi cephede kazanmıştır?

- A) Kafkas B) Çanakkale
C) Trablusgarp D) Suriye

3. “Kuvayımilliye’yi etken ve millî iradeyi egemen kılmak esastır.” kararı aşağıdakilerden hangisinde yer alır?

- A) Misakımillî B) Amasya Genelgesi
C) Erzurum Kongresi D) Sivas Kongresi

4. Millî Cemiyetler aşağıdakilerden hangisinde bir çatı altında birleştirilmiştir?

- A) Mudanya Ateşkes Anlaşması
B) Paris Konferansı
C) Erzurum Kongresi
D) Sivas Kongresi

5. • Kurtuluş Savaşı’nın Doğu Cephesi komutanıdır.
• Sarıkamış, Kars ve çevresini Ermeni işgalinden kurtarmıştır.

Bu bilgiler aşağıdakilerden hangisine aittir?

- A) Mustafa Kemal Paşa
B) İsmet Paşa
C) Fevzi Paşa
D) Kâzım Karabekir Paşa

1. OTURUM

6. İşgaller karşısında halk tarafından kurulan millî direniş teşkilatlarının ortak adı aşağıdakilerden hangisidir?

- A) Kuvayimillie B) Misakımillî
C) Teşkilatiasasiye D) Kuvayinizbatiye

7. İtalyanlar hangi savaştan sonra işgal ettikleri yerleri tamamen boşaltarak yurdumuzdan çekilmişlerdir?

- A) Kütahya-Eskişehir B) Sakarya
C) I. İnönü D) Dumlupınar

8. Aşağıdakilerden hangisi I. İnönü Zaferi'nin sonuçlarından biri değildir?

- A) Fransızlarla Ankara Antlaşması yapılmıştır.
B) Milletın TBMM'ye ve orduya güveni artmıştır.
C) TBMM Hükümeti Londra Konferansı'na davet edilmiştir.
D) Sovyet Rusya ile Moskova Antlaşması imzalanmıştır.

9. I. Lozan Barış Antlaşması
II. Sakarya Savaşı
III. TBMM'nin açılması
IV. Amasya Genelgesi

Bu olayların oluş sırası aşağıdakilerin hangisinde doğru olarak verilmiştir?

- A) II-I-III-IV B) IV-III-II-I
C) III-II-I-IV D) I-II-III-IV

10. Mustafa Kemal "Siyasi ve askeri zaferler ne kadar büyük olursa olsunlar, ekonomik zaferlerle taçlandırılmazlarsa meydana gelen zaferler devamlı olamaz, az zamanda söner." sözüyle aşağıdakilerden hangisinin önemini vurgulamıştır?

- A) Eğitimin
B) Askerliğin
C) Diplomasinin
D) Ekonomik bağımsızlığın

11. Aşağıdaki gelişmelerden hangisiyle "Egemenlik kayıtsız şartsız milletindir." ilkesi hayata geçirilmiştir?

- A) Amasya Genelgesi
B) Misakımillî'nin ilanı
C) Ankara'da Büyük Millet Meclisi'nin açılması
D) Mustafa Kemal'in Samsuna çıkması

12. Aşağıdakilerin hangisi ile tüm eğitim kurumları Millî Eğitim Bakanlığına bağlanmıştır?

- A) Tevhid-i Tedrisat Kanunu
B) Saltanatın kaldırılması
C) Maarif Kongresi'nin toplanması
D) Medeni Kanunun kabulü

13. Aşağıdaki kanunlardan hangisi denizlerde egemenlik sağlamaya yöneliktir?

- A) Borçlar Kanunu
B) Medeni Kanun
C) Kabotaj Kanunu
D) Takrir-i Sükûn Kanunu

14. Atatürk, Cumhuriyeti aşağıdakilerden hangisine emanet etmiştir?

- A) Öğretmenlere B) Gençlere
C) Askerlere D) Köylülere

15. 1935 yılı seçimlerinde Meclis'e kaç kadın milletvekili girmiştir?

- A) 7 B) 10 C) 13 D) 18

16. Aşağıdaki yeniliklerden hangisi köylüye yardımcı olmak ve tarımı geliştirmek amacıyla yöneliktir?

- A) Medeni Kanun
B) Hıfzıssıhha Kanunu
C) Aşar vergisinin kaldırılması
D) Devlet Konservatuarı'nın kurulması

17. Yeniliklerin sürekliliğini öngören Atatürk ilkesi aşağıdakilerden hangisidir?

- A) Halkçılık B) Devletçilik
C) İnkılapçılık D) Cumhuriyetçilik

1. OTURUM

18. Din ve vicdan özgürlüğünü sağlamayı amaçlayan ilke aşağıdakilerden hangisidir?

- A) Laiklik
B) Milliyetçilik
C) Halkçılık
D) Devletçilik

19. Aşağıdakilerden hangisi Sadabat Paketi'ne katılan devletlerden biri değildir?

- A) İran
B) Türkiye
C) Mısır
D) Irak

20. Kuzey Kıbrıs Türk Cumhuriyeti kaç yılında kurulmuştur?

- A) 1963
B) 1974
C) 1980
D) 1983

(835) İNGİLİZCE – 8

1-18. sorularda boşluğa uygun gelen kelime ya da ifadeyi işaretleyiniz.

1. Jane and Tom have been married - - - - fifteen years.

- A) for
B) just
C) ever
D) since

2. This is the first time I have - - - - been to the United States.

- A) already
B) never
C) ever
D) yet

3. Cheetah is - - - - animal in the world.

- A) fast
B) faster
C) the fastest
D) faster than

4. My sister - - - - a new car two weeks ago.

- A) listened
B) bought
C) called
D) drank

5. They were watching a scary movie - - - - I was doing my homework.

- A) so
B) for
C) since
D) while

6. There isn't - - - - fruit juice in the bottle.

- A) any
B) few
C) a few
D) many

7. I need two - - - - of bread to make a sandwich.

- A) glasses
B) loaves
C) cups
D) jars

8. If I win the lottery, I - - - - a new car.

- A) would buy
B) could buy
C) will buy
D) bought

9. If the weather - - - - better, we would go for a walk.

- A) is
B) would be
C) will be
D) were

10. The baby is sleeping. You - - - - make too much noise.

- A) shouldn't
B) had better
C) would rather
D) didn't need to

11. I - - - - read book than watch TV.

- A) prefer
B) would rather
C) could
D) should

12. You - - - - drive so fast, or you will have an accident.

- A) ought to
B) didn't have to
C) are supposed to
D) had better not

13. The boy - - - - is singing a song at the concert is my brother.

- A) where
B) which
C) whose
D) who

14. The trees - - - - by the students yesterday.

- A) are planting
B) were planted
C) has planted
D) plant

1. OTURUM

15. Turkey - - - - by many tourists every year.

- A) is visited B) is visiting
C) will visit D) was visiting

16. I can't speak Spanish, Carol can't speak it, - - - -.

- A) so B) too
C) either D) neither

17. - - - - Arya nor Sophie was at home yesterday.

- A) Too B) Either
C) Enough D) Neither

18. Tina : - - - -?

Mark : You can go by taxi.

- A) How can I get to the train station
B) How many trees are there
C) How much does it cost
D) How far is Scotland

19. Aşağıda verilen cümlelerin "passive" (edilgen) halini işaretleyiniz.

"She will paint the walls."

- A) The walls are being painted by her.
B) She will paint the walls tomorrow.
C) The walls will be painted by her.
D) She painted the walls yesterday.

20. Aşağıda verilen cümlelerin "active" (etken) halini işaretleyiniz.

"The questions were being answered by them."

- A) They were answering the questions.
B) They will answer the questions soon.
C) They have already answered the questions.
D) They answered the questions two hours ago.

(835) ALMANCA – 8

1-20. sorularda boş bırakılan yere uygun gelen ek, kelime ya da ifadeyi işaretleyiniz.

1. A : Hat Thomas - - - - auf das Geschenk gefreut?
B : Ja, sehr.

- A) ich B) mich
C) dich D) sich

2. A : - - - - Claudia 12 Jahre alt?
B : Nein, - - - - ist 11.


- A) Ist / sie B) Bist / er
C) Hat / hast D) Sie / sind

3. Februar, - - - - , April.

- A) Januar B) März
C) Mai D) Juni

4. Wie spät ist es?

Es ist - - - - .



- A) Viertel vor fünf
B) fünf
C) Viertel nach fünf
D) halb fünf

5. Die Büch- - - - sind sehr billig. (Plural)

- A) -e B) -es C) -en D) -er

1. OTURUM

6. Wer - - - - kein Tee getrunken?

- A) hat B) habe C) hast D) haben

7. Mustafa - - - - mit dem Bus nach Antalya - - - -.

- A) hat / fahre B) ist / gefahren
C) hast / fährst D) haben / fahren

8. - - - - neue Wohnung ist sehr groß.

- A) Eure B) Euren
C) Ihren D) Ihr

9. 27, - - - -, 29

- A) sechszwanzig
B) achtzehn
C) sechzehn
D) achtundzwanzig

10. A : Ich habe - - - - neue Schuhe gekauft.
Was hast du - - - - gekauft?

B : Eine neue Hose.

- A) mich / dich B) mein / dein
C) mir / dir D) meinen / deinen

11. A : - - - - ?


B : Er schreibt seine Hausaufgaben.

- A) Wie alt ist er
B) Was macht er
C) Wo wohnt er
D) Woher kommt er

12. Herr Doğan - - - - einen Döner und - - - - Ayran.

- A) isst / trinken B) essen / trinkt
C) isst / trinkt D) essen / trinke

13. Das Obst ist - - - - Kühlschrank.



- A) im B) in C) um D) am

14. A : Hallo Ayşe! - - - - fliegst du nicht mit dem Flugzeug?

B : - - - - ich Angst habe.

- A) Wohin / Wer B) Was / Wenn
C) Wo / Wie D) Warum / Weil

15. Die Farbe - - - - neuen Stühle sind blau.

- A) das B) der C) die D) den

16. A : Wo ist Frau Schuster?

B : Sie spielt mit - - - - Kindern im Garten.

- A) die B) der C) den D) dem

17. - - - - grüne Hemd kostet 100 Lira.

- A) Der B) Dem C) Die D) Das

18. A : Mit - - - - sprichst du am Telefon?

B : Mit Ali.

- A) wem B) wen
C) wer D) warum

1. OTURUM

19. A : Was machen die Schüler?
B : Sie - - - - Basketball.



- A) tanzen
C) singen
B) spielen
D) lesen

20. Erzurum = -10°
Mersin = 5°

Erzurum ist - - - - als Mersin.

- A) fleißiger
C) kälter
B) billiger
D) schneller

(835) FRANZISCA – 8

1-15. sorularda boş bırakılan yere uygun gelen kelime ya da ifadeyi işaretleyiniz.

1. - - - - sommes arrivés tard à Konya.

- A) Je
B) Nous
C) Elles
D) Vous

2. Selim et Ali - - - - un voyage en Afrique en été.

- A) ont fait
C) as fait
B) est fait
D) avons fait

3. Ils habitent - - - - Berlin - - - - Allemagne depuis dix ans.

- A) en / au
C) à / en
B) à / au
D) au / aux

4. Pour acheter de la viande et du poulet je vais chez - - - -.

- A) le crémier
B) le boulanger
C) le marchand de légumes
D) le boucher

5. Mon père a 45 ans ; ma mère a 45 ans.
Mon père est - - - - que ma mère.

- A) plus âgé
C) aussi âgé
B) moins jeune
D) plus jeune

6. Pierre a acheté six chemises et trois cravates.
Alors, il a acheté - - - - de chemises que de cravates.

- A) plus
B) tant
C) moins
D) autant

7. Comme boisson, - - - - de l'eau minérale.

- A) dînez
B) buvez
C) mangez
D) déjeunez

8. Le lait coûte un euro - - - -.

- A) le kilo
C) le mètre
B) le mètre carré
D) le litre

9. Ayla : C'est - - - - la poste ?

Éric : Elle est à côté du cinéma.

- A) quand
C) ou
B) combien
D) où

10. Pour aller au Japon, ils - - - - en avion.

- A) visitent
C) devient
B) voyagent
D) voit

11. Voilà le livre - - - - j'ai lu le mois dernier.

- A) que
B) dont
C) qui
D) où

1. OTURUM

12. J'aime les petites voitures économiques - - - -
roulent vite.

- A) où B) que
C) qui D) pourquoi

13. M. Legrand a 83 ans, c'est - - - -.

- A) une vieille dame B) un vieux monsieur
C) une fille blonde D) une jeune femme

14. Si vous faites du sport, vous - - - - jeune.

- A) resterez B) sommes resté
C) restera D) resterons

15. André : - - - - tu as fait à Palandöken ?
Aline : J'ai fait du ski.

- A) Combien B) Quand
C) Comment D) Qu'est-ce que

16-20. soruları resimleri dikkate alarak
cevaplayınız.

16.



Il fait - - - -.

- A) du cheval B) de l'alpinisme
C) du vélo D) de la peinture

17.



Paul ne peut pas courir parce qu'il a - - - -.

- A) mal au ventre B) mal au dos
C) le bras cassé D) la jambe cassée

18.



Quand il fait beau, elle - - - - son chien dans
le parc.

- A) se lave B) lave
C) me promène D) promène

19.



Il - - - - son manteau en courant.

- A) met B) danse C) pleure D) cherches

20.



Il a mal - - - -.

- A) au dos B) aux pieds
C) aux dents D) au ventre

1. OTURUM

(836) DİN KÜL. VE AHLAK BİLGİSİ – 8

1. Maddenin oluşumu, yapısı, hareketi, değişimi ve maddeler arası ilişkiler ile ilgili yasalardır. Bu yasalar; deney, gözlem ve araştırmalar sonucu ortaya konulmuştur. Bu yasalar sayesinde Allah'ın evrende yarattığı düzen insanlar tarafından daha iyi anlaşılabilir olur.

Hakkında bilgi verilen yasa aşağıdakilerden hangisidir?

- A) Biyolojik B) Fiziksel
C) Toplumsal D) Ahlaki

2. "Onlar yeryüzünde gezip kendilerinden öncekilerin sonunun nasıl olduğuna bakmazlar mı?..."
(Fâtır suresi, 44. ayet)

"Sizden önceki milletlerin başından nice olaylar gelip geçmiştir. Yeryüzünde gezin dolaşın da yalancılara sonunun nasıl olduğuna bir bakın."

(Âl-i İmrân suresi, 137. ayet)

Bu ayetlerde, aşağıdaki yasalardan hangisi vurgulanmaktadır?

- A) Biyolojik B) Fiziksel
C) Hukuki D) Toplumsal

3. "Şüphesiz biz ona (doğru) yolu gösterdik; ister şükreder, ister nankörlük eder."
(İnsan suresi, 3. ayet)

Bu ayette, kaderle ilgili aşağıdaki kavramlardan hangisi vurgulanmaktadır?

- A) Emek B) Tevekkül
C) Özgürlük D) Rızık

4. Bir amaca ulaşmak için elden gelen tüm gayreti gösterip gerekli olan her türlü tedbiri aldıktan sonra, o işin sonucunun Allah'a bırakılmasıdır.

Tanımlanan kavram aşağıdakilerden hangisidir?

- A) Tevekkül B) Emek
C) Kaza D) Kader

5. Kelime olarak artma, çoğalma, arınma ve bereket anlamlarına gelen ibadet aşağıdakilerden hangisidir?

- A) Kurban B) Zekât
C) Oruç D) Namaz

6. Para, altın, gümüş ve menkul değerler ile ticaret mallarından verilecek zekât miktarı aşağıdaki seçeneklerden hangisinde doğru belirtilmiştir?

- A) 1/10 B) 1/30
C) 1/40 D) 1/50

7. Zekât verilecek kişiler arasında aşağıdakilerden hangisi **yer almaz**?

- A) Yolda kalmış olanlar
B) Özgürlüğünü yitirmiş olanlar
C) Kalbi İslam'a ısındırılmak istenenler
D) Kişinin bakmakla yükümlü olduğu kimseler

8. Kâbe'nin doğu tarafında bulunan Safa ve Merve tepeleri arasında, hızlı adımlarla yedi defa gidip gelmeye denir. Haccın vaciplerindedir.

Tanımlanan kavram aşağıdakilerden hangisidir?

- A) Sa'y B) Şavt
C) Umre D) Tavaf

9. Sosyal yardımlaşma kurumları arasında aşağıdakilerden hangisi **yer almaz**?

- A) Kızılay
B) Aş evleri
C) Millî Eğitim Vakfı
D) Diyanet İşleri Başkanlığı

10. "Düşünüp öğüt alsınlar diye o sözü (Kur'an ayetlerini) onlara peş peşe ulaştırdık."
(Kasas suresi, 51. ayet)

Bu ayette insanın hangi özelliğini kullanmasının önemine işaret edilmektedir?

- A) Özgürlük B) Akıl
C) Sorumluluk D) Sabır

1. OTURUM

11. Kur'an-ı Kerim'de rüyaları yorumlaması anlatılan, sevgi ve merhamet örneği olan peygamber aşağıdakilerden hangisidir?

- A) Hz. İbrahim
B) Hz. Âdem
C) Hz. Yusuf
D) Hz. İlyas

12. Aşağıdakilerden hangisi sigaraya başlama nedenlerinden biri değildir?

- A) Biyolojik ihtiyaçlar
B) Kötü arkadaş çevresi
C) Merak ve özentisi
D) Yetersiz eğitim

13. "Bana dostunu söyle, sana kim olduğunu söyleyeyim." sözü, kötü alışkanlıklara başlamada aşağıdakilerden hangisinin etkisine dikkat çekmektedir?

- A) Aile
B) Okul
C) Arkadaş
D) Medya

14. Aşağıdakilerden hangisi kul hakkına girmez?

- A) Eksik ölçüp tartmak
B) Hırsızlık ve hile yapmak
C) Yalan söylemek ve iftira atmak
D) Alışveriş yapmak ve eğlenmek

15. Aşağıdakilerden hangisi ilahi dinlerden biri değildir?

- A) Yahudilik
B) Budizm
C) Hristiyanlık
D) İslam

16. • En belirgin özelliği insanları sınıflara ayırmasıdır.
• MÖ 1500 yıllarından itibaren ortaya çıkmıştır.
• Geleneklere dayanır ve kurucusu yoktur.
• Belli bir ibadet şekli yoktur.

Bazı özellikleri verilen din aşağıdakilerden hangisidir?

- A) Hinduizm
B) Caynizm
C) Şintoizm
D) Budizm

17. Aşağıdaki açıklamaların hangisi "haham" kavramını ifade etmektedir?

- A) Hristiyanlık'ta bir ibadet
B) Hinduizm'de bir ilke
C) Yahudilik'te din adamı
D) Budizm'de kutsal bir ilke

18. I. Hilful Fudul'a üye olması,
II. Medine sözleşmesini imzalaması,
III. Mescid-i Nebi'nin yanına Suffa'yı yaptırması,
IV. Bedir savaşı esirlerini Müslümanlara okumaz yazma öğretmeleri karşılığında serbest bırakması,

Hz. Peygamber'in bu faaliyetlerinden hangileri onun eğitim ve öğretime verdiği öneme örnek oluşturur?

- A) I ve II.
B) I ve III.
C) II ve IV.
D) III ve IV.

19. Hz. Peygamber kendisi ile konuşmak isteyenleri dikkatli dinlerdi. Bir yere konuk olarak gittiğinde kendisi için ayağa kalkılmasını istemez, boş olan bir yere otururdu.

Bu durum Hz. Peygamber'in aşağıdaki yönlerinden hangisini ortaya koymaktadır?

- A) Zamanı iyi değerlendirmesi
B) İnsanlara değer vermesi
C) Adaletli ve güvenilir olması
D) Eğitime önem vermesi

20. Aşağıdaki hadislerden hangisi istişare ile ilgilidir?

- A) Danışan asla pişman olmaz.
B) Bizi aldatan bizden değildir.
C) Merhamet etmeyene merhamet edilmez.
D) Hiç kimseye sabırdan daha hayırlı bir özellik verilmemiştir.

CEVAP KÂĞIDI VE SORU KİTAPÇIĞI İLE İLGİLİ AÇIKLAMALAR

1. Cevap kâğıdınızdaki bilgilerin doğruluğunu kontrol ediniz ve cevap kâğıdınızı mürekkepli kalemle imzalayınız.
2. Cevap kâğıdı üzerinde kodlamalarınızı siyah kurşun kalemle yapınız.
3. Değiştirmek istediğiniz bir cevabı, yumuşak silgiyle cevap kâğıdını örselemeden temizce siliniz ve yeni cevabınızı kodlayınız.
4. Soru kitapçığının sayfalarını görevlilerin uyarıları doğrultusunda kontrol ediniz, baskı hatası var ise değiştirilmesini sağlayınız.
5. Soruların çözümü için size ayrıca boş kâğıt verilmeyecektir. Soru kitapçığının içindeki boş alanları soru çözümleri için kullanabilirsiniz.
6. Her sorunun dört seçeneğinden sadece biri doğrudur. Doğru seçeneği, cevap kâğıdınızın ilgili sütununa soru numarasını dikkate alarak yuvarlağın dışına taşırmadan kodlayınız. Soru kitapçığı üzerinde yapılan cevaplandırmalar dikkate alınmayacaktır.
7. Cevaplamaya istediğiniz dersin sorusundan başlayabilirsiniz. Cevabını bilmediğiniz sorular üzerinde fazla zaman kaybetmeden diğer sorulara geçiniz. Zamanınız kalırsa bu sorulara daha sonra dönebilirsiniz.
8. Yanlış cevaplarınız dikkate alınmadan sadece doğru cevaplarınız üzerinden puanlama yapılacaktır.
9. Soruları ve sorulara verdiğiniz cevapları, yanınızda götürmek amacıyla kaydetmeyiniz; hiçbir şekilde dışarı çıkarmayınız.
10. Sınav bitiminde soru kitapçığı ve cevap kâğıdını salon görevlilerine teslim ediniz.

SALON GÖREVLİLERİNCE SINAV BAŞLAMADAN ÖNCE ADAYLARA YAPILACAK SON UYARILAR

- Soracağınız bir şey varsa şimdi sorunuz, sınav başladıktan sonra sorularınıza cevap verilmeyecektir.
- Başlama zilini bekleyiniz.

Hepinize başarılar dileriz.

(Salon başkanı başlama ve bitiş saatini tahtaya yazacaktır.)

Bu kitapçığın her hakkı saklıdır. Hangi amaçla olursa olsun, kitapçığın tamamının veya bir kısmının Millî Eğitim Bakanlığı Ölçme, Değerlendirme ve Sınav Hizmetleri Genel Müdürlüğünün yazılı izni olmadan kopya edilmesi, fotoğraflarının çekilmesi, bilgisayar ortamına alınması, herhangi bir yolla çoğaltılması, yayımlanması veya başka bir amaçla kullanılması yasaktır. Bu yasağa uymayanlar, doğabilecek cezai sorumluluğu ve kitapçığın hazırlanmasındaki mali külfeti peşinen kabullenmiş sayılır.

**9 ARALIK 2017 TARİHİNDE YAPILAN
AÇIK ÖĞRETİM ORTAOKULU 2017-2018 ÖĞRETİM YILI 1. DÖNEM SINAVI
1. OTURUM CEVAP ANAHTARI**

TÜRKÇE – 7

1. B
2. A
3. B
4. D
5. C
6. D
7. B
8. A
9. D
10. C
11. C
12. B
13. D
14. A
15. A
16. C
17. B
18. B
19. D
20. C

FEN BİLİMLERİ – 7

1. C
2. D
3. A
4. B
5. B
6. D
7. B
8. A
9. A
10. C
11. B
12. D
13. C
14. C
15. B
16. A
17. B
18. C
19. C
20. D

İNGİLİZCE – 8

1. A
2. C
3. C
4. B
5. D
6. A
7. B
8. C
9. D
10. A
11. B
12. D
13. D
14. B
15. A
16. C
17. D
18. A
19. C
20. A

FRANSIZCA – 8

1. B
2. A
3. C
4. D
5. C
6. A
7. B
8. D
9. D
10. B
11. A
12. C
13. B
14. A
15. D
16. C
17. D
18. D
19. A
20. C

MATEMATİK – 7

1. B
2. D
3. C
4. C
5. A
6. B
7. D
8. B
9. D
10. C
11. A
12. C
13. A
14. C
15. B
16. C
17. B
18. D
19. A
20. A

TC İNK. TAR. VE ATA. – 8

1. C
2. B
3. C
4. D
5. D
6. A
7. B
8. A
9. B
10. D
11. C
12. A
13. C
14. B
15. D
16. C
17. C
18. A
19. C
20. D

ALMANCA – 8

1. D
2. A
3. B
4. C
5. D
6. A
7. B
8. A
9. D
10. C
11. B
12. C
13. A
14. D
15. B
16. C
17. D
18. A
19. B
20. C

**DİN KÜLTÜRÜ ve AHLAK
BİLGİSİ – 8**

1. B
2. D
3. C
4. A
5. B
6. C
7. D
8. A
9. D
10. B
11. C
12. A
13. C
14. D
15. B
16. A
17. C
18. D
19. B
20. A

**9 ARALIK 2017 TARİHİNDE YAPILAN
AÇIK ÖĞRETİM ORTAOKULU 2017-2018 ÖĞRETİM YILI 1. DÖNEM SINAVI
1. OTURUM CEVAP ANAHTARI**

TÜRKÇE – 5

1. D
2. C
3. B
4. C
5. A
6. B
7. D
8. C
9. A
10. D
11. B
12. A
13. D
14. A
15. C
16. D
17. D
18. B
19. A
20. A

FEN BİLİMLERİ – 5

1. A
2. A
3. B
4. D
5. C
6. D
7. D
8. C
9. A
10. B
11. B
12. A
13. D
14. C
15. B
16. C
17. D
18. C
19. A
20. B

İNGİLİZCE – 6

1. C
2. B
3. A
4. D
5. B
6. D
7. C
8. B
9. B
10. D
11. C
12. A
13. A
14. C
15. B
16. D
17. A
18. C
19. B
20. D

FRANSIZCA – 6

1. A
2. A
3. C
4. B
5. D
6. D
7. A
8. B
9. B
10. C
11. A
12. D
13. C
14. B
15. D
16. C
17. C
18. D
19. A
20. B

MATEMATİK – 5

1. A
2. C
3. B
4. B
5. D
6. A
7. D
8. C
9. D
10. A
11. D
12. C
13. B
14. B
15. A
16. C
17. C
18. B
19. C
20. B

SOSYAL BİLGİLER – 6

1. A
2. B
3. D
4. C
5. B
6. D
7. D
8. B
9. A
10. B
11. B
12. D
13. C
14. A
15. C
16. B
17. A
18. D
19. A
20. D

ALMANCA – 6

1. A
2. B
3. C
4. D
5. A
6. C
7. D
8. C
9. B
10. A
11. B
12. D
13. A
14. B
15. C
16. D
17. A
18. B
19. C
20. D

**DİN KÜLTÜRÜ ve AHLAK
BİLGİSİ – 6**

1. A
2. D
3. C
4. B
5. D
6. A
7. C
8. B
9. C
10. D
11. B
12. A
13. B
14. D
15. C
16. A
17. C
18. D
19. B
20. A