



**AÇIK ÖĞRETİM ORTAOKULU  
2016 - 2017 ÖĞRETİM YILI  
2. DÖNEM SINAVI**

**0**

**18 MART 2017**

**Saat: 09.30**

**1.**  
**OTURUM**

<u>DERSLER</u>	<u>SAYFA</u>	<u>DERSLER</u>	<u>SAYFA</u>
(550) TÜRKÇE – 5	2	(730) TÜRKÇE – 7	16
(551) MATEMATİK – 5	4	(731) MATEMATİK – 7	18
(552) FEN BİLİMLERİ – 5	6	(732) FEN VE TEKNOLOJİ – 7	21
(633) SOSYAL BİLGİLER – 6	8	(834) T.C. İNK. TAR. VE ATATÜRK. – 8	23
(634) İNGİLİZCE – 6	9	(835) İNGİLİZCE – 8	25
(634) ALMANCA – 6	11	(835) ALMANCA – 8	26
(634) FRANSIZCA – 6	13	(835) FRANSIZCA – 8	28
(635) DİN KÜL. VE AHLAK BİLGİSİ – 6	15	(836) DİN KÜL. VE AHLAK BİLGİSİ – 8	30

**ADAYLARIN DİKKATİNE!**

- Her ders için 20 soru bulunmaktadır. Bu oturumda **150** dakikalık cevaplama süreniz vardır. Sınav başladıktan sonra ilk **30** dakika tamamlanmadan dışarı çıkmayınız.
- Sınav sırasında çanta, cep telefonu, saat, kablosuz iletişim sağlayan cihazlar ve kulaklık, kolye, küpe, bilezik, yüzük, broş ve benzeri eşyalar ile her türlü elektronik ve/veya mekanik cihazları yanınızda bulundurmuyunuz. Bu araçları yanınızda bulundurmanız ve kopya çekmeye teşebbüs etmeniz hâlinde sınavınız geçersiz sayılacaktır.
- Başvuru şartlarını taşımadığınız hâlde sınava girmeniz, kopya çekmeniz, başka adayın sınav evrakını kullanmanız, geçerli kimlik belgenizi ve sınav giriş belgenizi ibraz edemediğiniz durumlarda sınavınız geçersiz sayılacaktır.
- Sınavın değerlendirilmesi aşamasında, bilgisayar ortamında yapılan kopya analizinde sistemin ikili ve/veya toplu kopya tespiti hâlinde sınavınız geçersiz sayılacaktır.
- Adaylar, sınav kurallarına ve salon görevlilerinin tüm uyarılarına uymak zorundadır. Kurallara ve uyarılara uymayan adayların sınavları geçersiz sayılacaktır.**
- Sınav başladıktan sonra adayların salon görevlileri ve birbirleri ile konuşmaları; kalem, silgi vb. şeyleri istemeleri yasaktır.
- Adaylar sınav süresince, sınav giriş belgesi ile geçerli kimlik belgelerinden birinin aslını (fotoğraflı nüfus cüzdanı, pasaport veya sürücü belgesi) masalarının üzerinde bulundurmamak zorundadır.
- Sınav evraklarını teslim etmeyen, soru kitapçıklarının sayfalarından bir kısmını eksik teslim edenlerin sınavları geçersiz sayılacaktır.**
- Sınav başlamadan önce kitapçığın arkasındaki açıklamaları okuyunuz.

**BAŞLAYINIZ DENMEDEN SORU KİTAPÇIKLARINI AÇMAYINIZ.**

# 1. OTURUM

(550) TÜRKÇE – 5

1. Aşağıdaki kelimeler alfabetik sıraya göre dizildiğinde hangisi baştan üçüncü sırada yer alır?

- A) Şenlik                      B) Şekil  
C) Şeker                        D) Şerbet

2. “Çekmek” kelimesi aşağıdaki cümlelerin hangisinde “bir yerden başka bir yere taşımak” anlamında kullanılmıştır?

- A) Bahçeye yüksek bir duvar çektik.  
B) Rusya, ABD’den elçisini çekti.  
C) Ekini tarladan harmana çektik.  
D) Akşam olunca perdeleri çektim.

3. Aşağıdaki altı çizili kelimelerden hangisi mecaz anlamıyla kullanılmıştır?

- A) Kuru sözlerle bizi kandıracağını sanıyordu.  
B) Kendi bağından topladığı üzümlerden getirmişti.  
C) Bu öksürük günlerce yakasını bırakmadı.  
D) Yaşlı bir çınarın gölgesinde oturduk.

4. “Hatıra-anı” kelimeleri arasındaki anlam ilişkisi aşağıdakilerin hangisinde vardır?

- A) Uzun-kısa                      B) İnsan-toplum  
C) Amaç-hedef                    D) Hediye-ödül

5. Öğrenciler müzeye farklı bir yol kullanarak gittiler. Bizim ufaklık kilimin püsküllerini  yolmuş.

**Bu cümlelerde altı çizili kelimeler arasındaki anlam ilişkisi aşağıdakilerden hangisidir?**

- A) Zıt anlamlılık                    B) Eş seslilik  
C) Eş anlamlılık                    D) Terim anlamlılık

6. Arkadaşının yanına uğradıktan sonra acıktığı için bir lokantaya girdi.

**Bu cümlede aşağıdaki sorulardan hangisinin cevabı yoktur?**

- A) Ne zaman?                      B) Niçin?  
C) Nereye?                         D) Ne?

7. Aşağıdaki cümlelerin hangisinde sebep-sonuç ilişkisi vardır?

- A) Birinciliği ancak bütün takım bir aradayken alabiliriz.  
B) Çok sevdiğim bir arkadaşımın kalbini biraz kırdım.  
C) Çocuklar bahçedeki taşları bir yana çabucak yığdılar.  
D) Bu konuyu fazlasıyla düşündüğüm için başım ağrıyor.

8. Aşağıdaki cümlelerin hangisinde karşılaştırma vardır?

- A) Edebiyat tarihinin en başarılı hikâyelerini bu kitapta bulabilirsiniz.  
B) O yıkık eve herkesin yaklaşmaktan çekindiği bir yabancı yerleşmişti.  
C) Benim eşim sütlacı çok güzel yapar.  
D) Bilim kurgu filmlerindeki düşünceler hayata geçiriliyor.

9. Her daim mavi ve yeşilin tonlarıyla çalkalanan ılık göller ovalara bereket saçıyor. Bu göllerin derinliklerinde salınan bitkiler, kıvrılarak kayan balıklar eşsiz görüntüler sunuyor. Biz de kuş sesleri arasında bu gölün çevresindeki saklı güzellikleri aradık.

**Bu metinde aşağıdaki duyu organlarının hangisiyle ilgili bir ayrıntı yoktur?**

- A) Dokunma                        B) Duyma  
C) Tatma                            D) Görme

10. İznik Gölü, Marmara Havzası göllerinin en geniş ve su düzeyi en yüksek olanıdır. Barındırdığı hayatın çeşitliliği bakımından çok zengin bir göldür. Bu özelliklerini kendisini besleyen kaynaklara borçludur.

**Bu metinde “İznik Gölü” ile ilgili aşağıdakilerden hangisine değinilmemiştir?**

- A) Nerede yer aldığına  
B) Bulunduğu bölgenin en geniş gölü olduğuna  
C) Çok çeşitli canlıya ev sahipliği yaptığına  
D) Birçok ırmak tarafından beslendiğine

# 1. OTURUM

11. Aşağıdaki cümlelerde altı çizili kelimelerden hangisi doğru yazılmıştır?

- A) Ben bu sene tatile yanlız gideceğim.
- B) İnsanlar erozyon konusunda bilinçlendirilmeli.
- C) Atmış yıllık hayatımda acı tatlı günler yaşadım.
- D) İnternet yüzünden insanlar artık gaste okumuyor.

12. Anneannemden dinlediğim masalları yazlıkta çocuklara anlatırdım. Önceleri biri Nedret, iki üç dinleyicim olurdu. Sonra dinleyicilerin sayısı arttı. Ben duvara sırtımı verirdim, ötekiler karşıma sıralanırdı. Yaz akşamlarının en keyifli vaktiydi bu saatler.

**Bu metindeki altı çizili kelime aşağıdaki hikâye unsurlarından hangisidir?**

- A) Yer
- B) Zaman
- C) Ana karakter
- D) Olay

13. 1. Onu gören bir çocuk, o gittikten sonra tuzağı bozdu.  
2. Bu ağaçlar arasında özgür kuşlar yaşardı.  
3. Avcılar buraya sık sık uğrardı.  
4. Bir gün bir avcı buraya geldi ve tuzağını kurdu.  
5. Dahar kenti yakınlarında iri ve dalları birbirine girmiş gür ağaçlar bulunuyordu.

**Numaralanmış cümleler olayların oluş sırasına göre nasıl sıralanmalıdır?**

- A) 1-4-5-2-3
- B) 3-4-1-5-2
- C) 4-1-5-3-2
- D) 5-2-3-4-1

14. (1) Dedemin "C" harfi gibi bükülen bedenini tepeden tırnağa süzdüm. (2) Sonra acımayla karışık bir sevgiyle dedemin yüzüne baktım. (3) Dedemin yüzüne bakınca içimde garip bir duygu belirdi. (4) O da benim neler düşündüğümü hissedip beni alnımdan öptü.

**Bu metinde numaralanmış cümlelerin hangisinde benzetme yapılmıştır?**

- A) 1.
- B) 2.
- C) 3.
- D) 4.

15. Aşağıdaki altı çizili kelimelerden hangisi aldığı ek nedeniyle yeni bir anlam kazanmamıştır?

- A) Her ilişkide saygı ve sevgi olmalıdır.
- B) Denizci evini çok özlemişti.
- C) Deponun her yerinde böcekler vardı.
- D) Kendime güzel bir yağmurluk aldım.

16. Aşağıdaki cümlelerden hangisi yapılacak olan bir eylemi ifade eder?

- A) Okuldan çıkınca hemen babasının yanına gitmiş.
- B) Yeni aldığımız eve halamlar taşınacakmış.
- C) Bindığım taksi bozulduğundan treni kaçırdım.
- D) Arkadaşının anlattığı hikâyelere katıla katıla gülüyor.

17. Aşağıdaki altı çizili kelimelerden hangisi bir ismin yerini tutmuştur?

- A) Her gün büyük bir telaşla evden çıkardı.
- B) Ağabey kardeş yaz boyunca sitenin futbol takımında oynadı.
- C) Sizler bu güzel, parlak ülkenin geleceğisiniz.
- D) Akşamları odasında müzik dinlerdi.

18. Aşağıdaki cümlelerin hangisinde öznel yargı vardır?

- A) Kahvaltısını yapmadan evden çıktı.
- B) Hastalandığından sabaha kadar uyuyamadı.
- C) Artık istesen bile bir şey yapamazsın bence.
- D) Vapur iskeleden uzaklaşıp gözden kayboldu.

19. Aşağıdaki cümlelerin hangisinde soru işareti yanlış kullanılmıştır?

- A) İnsan buraya kadar gelir de uğramaz mı?
- B) Karşı sahile kadar yüzebilir misin?
- C) Bizimle oynamayı kabul eder mi, ne dersin?
- D) Bu çalışmayı bitirip bitiremeyeceğimizi sordu?

20. Aşağıdaki cümlelerin hangisinde "-da/-de"nin yazımıyla ilgili bir yanlışlık yapılmıştır?

- A) Bu şehrin sokaklarında mis gibi çiçek kokar.
- B) Parka bende gelmek istiyorum.
- C) En iyi arkadaşı da ona haber vermemiş.
- D) Kardeşine haksızlık yaptığını sen de biliyorsun.

# 1. OTURUM

## (551) MATEMATİK – 5

1. 605 007 101 sayısının okunuşu aşağıdakilerden hangisidir?

- A) Altı yüz beş milyon yetmiş bin yüz bir  
B) Altı yüz beş milyon yedi bin yüz bir  
C) Altı yüz beş milyon yedi yüz bin yüz bir  
D) Altı yüz beş milyon yetmiş bir bin bir

2.  $4 \times (27 - 8)$  işleminin sonucu aşağıdakilerden hangisidir?

- A) 0 B) 74 C) 76 D) 78

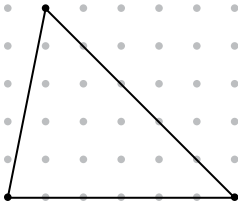
3. Yandaki çarpma işleminde  $\square$  bir rakamdır. İşleme göre  $\square$  kaçtır?

$$\begin{array}{r} 7 \square 5 \\ \times 48 \\ \hline 5640 \\ + 2820 \\ \hline 33840 \end{array}$$

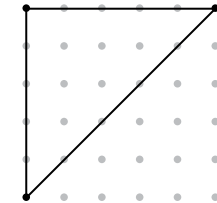
- A) 0 B) 4 C) 6 D) 8

4. Aşağıdakilerden hangisi ikizkenar üçgendir?

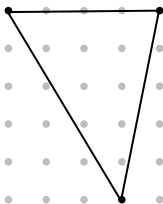
A)



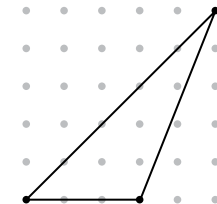
B)



C)



D)



5.  $\frac{3}{5}, \frac{8}{10}, \frac{4}{15}$  kesirlerinin küçükten büyüğe doğru sıralanışı aşağıdakilerden hangisidir?

- A)  $\frac{3}{5} < \frac{4}{15} < \frac{8}{10}$  B)  $\frac{8}{10} < \frac{3}{5} < \frac{4}{15}$   
C)  $\frac{4}{15} < \frac{8}{10} < \frac{3}{5}$  D)  $\frac{4}{15} < \frac{3}{5} < \frac{8}{10}$

6.  $\frac{9}{10} - \frac{3}{5}$  işleminin sonucu kaçtır?

- A)  $\frac{3}{10}$  B)  $\frac{2}{5}$  C)  $\frac{3}{5}$  D)  $\frac{6}{5}$

7.  $2\frac{1}{2}$  tam sayılı kesrinin ondalık gösterimi aşağıdakilerden hangisidir?

- A) 1,5 B) 2,25 C) 2,5 D) 2,75

8.  $1,23 + 2,57 + 3,2$  işleminin sonucu kaçtır?

- A) 6 B) 6,88 C) 6,92 D) 7

9. Aşağıdaki sembollerden hangisi "AB doğru parçası" biçiminde okunur?

- A)  $|AB|$  B)  $AB]$  C)  $[AB$  D)  $[AB]$

10. Kenar uzunlukları 6 cm ve 8 cm olan dikdörtgen şeklindeki kağıt kesilerek bir kare oluşturuluyor.

Bu karenin alanı en fazla kaç santimetrekaredir?

- A) 25 B) 36 C) 49 D) 64

11. Saat 10.30'da havalanan Ankara - İstanbul uçağı 57 dakika havada kalmıştır.

Bu uçağın İstanbul'a iniş saati kaçtır?

- A) 10.57 B) 11.17  
C) 11.27 D) 11.37

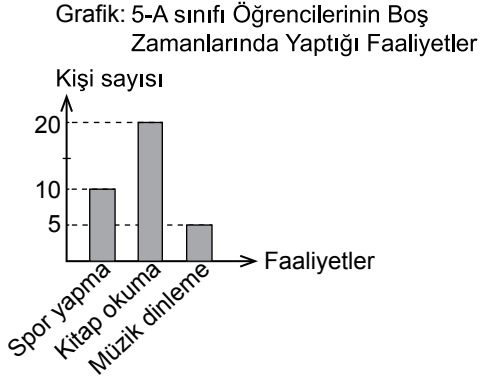
12. Mehmet cebindeki parasının  $\frac{2}{5}$ ' sine kalem satın almıştır.

Aldığı kaleme 6 lira ödeyen Mehmet'in kalem almadan önce cebinde kaç lirası vardı?

- A) 9 B) 12 C) 14 D) 15

# 1. OTURUM

13.



Verilen sütun grafiğine göre sınıftaki öğrencilerin boş zamanlarında yaptıkları faaliyetlerle ilgili aşağıdakilerden hangisi yanlıştır?

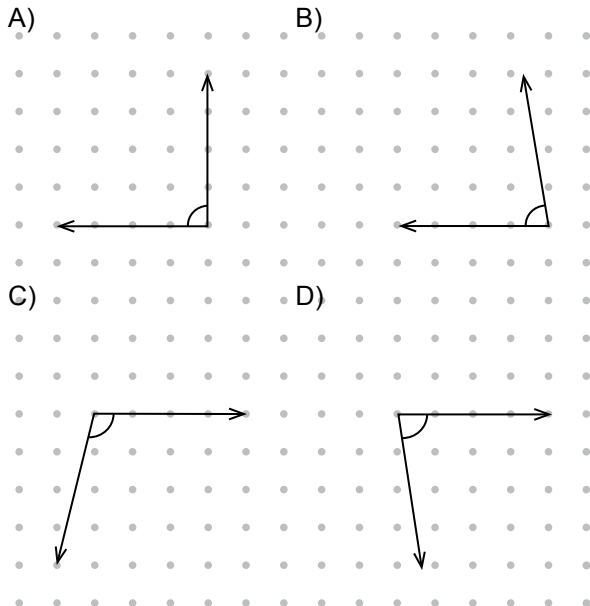
- A) Spor yapan 5 öğrenci vardır.  
 B) Kitap okuyanların sayısı müzik dinleyenlerin sayısından 15 fazladır.  
 C) Spor yapanların sayısı müzik dinleyenlerin sayısından 5 fazladır.  
 D) En çok yapılan faaliyet kitap okumadır.

14. Fiyatı 100 TL olan bir ayakkabıya %15 zam yapıyor.

Buna göre ayakkabının yeni fiyatı kaç liradır?

- A) 115 B) 130 C) 145 D) 160

15. Aşağıdaki açılardan hangisi geniş açıdır?



16. Boyutları 3 cm, 8 cm ve 12 cm olan dikdörtgenler prizmasının yüzey alanı kaç santimetrekaredir?

- A) 312 B) 376 C) 392 D) 576

17. Bir eşkenar üçgenin çevre uzunluğu 2,4 cm'dir.

Buna göre bu üçgenin bir kenar uzunluğu kaç milimetredir?

- A) 8 B) 80 C) 800 D) 8000

18.  $\frac{17}{50}$  kesrinin % sembolü ile gösterilişi aşağıdakilerden hangisidir?

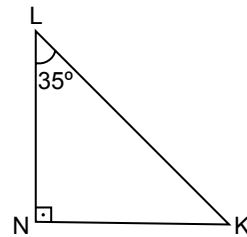
- A) %17 B) %34 C) %50 D) %67

19.  $5 \times 5 \times 5$

Yukarıdaki ifadenin üslü biçimde gösterimi aşağıdakilerden hangisidir?

- A)  $3^5$  B)  $5^3$  C)  $3^3$  D)  $5^2$

20.



Yukarıda verilen şekle göre,  $m(\widehat{N}) = 90^\circ$  ve  $m(\widehat{L}) = 35^\circ$  'dir.

$\widehat{LKN}$  'nin ölçüsü kaç derecedir?

- A) 40 B) 45 C) 50 D) 55

# 1. OTURUM

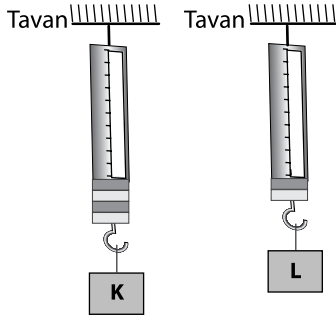
## (552) FEN BİLİMLERİ – 5

1. ....? cisimle temasta bulunduğu yüzey arasında cismin hareketine karşı koyan kuvvettir.

Verilen cümlede “?” yerine aşağıdakilerden hangisi yazılmalıdır?

- A) Çekme kuvveti  
B) İtme kuvveti  
C) Sürtünme kuvveti  
D) Döndürme kuvveti

2. Şekildeki dinamometrede K cismi havada 40 N olarak ölçülüyor.



Buna göre L cismi kaç N'dur?

- A) 20      B) 30      C) 40      D) 50

3. Bir öğrenci aşağıda verilen maddeleri ışığı geçirme özelliklerine göre gruplandırmak istemektedir.

- I. Pencere camı  
II. Tahta  
III. Su

Buna göre gruplandırma hangisinde doğru olarak verilmiştir?

	Saydam madde	Opak madde
A)	I ve III	II
B)	I ve II	III
C)	III	I ve II
D)	II	I ve III

4. Aşağıdakilerden hangisi yapay ses kaynağıdır?

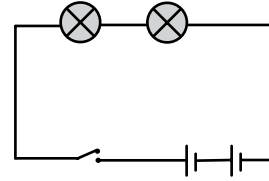
- A) Sivrisinek      B) Rüzgâr  
C) İş makinası      D) Gök gürültüsü

5. I. Aynı cisimle, farklı maddelere vurulduğunda farklı sesler çıkar.  
II. Sesin yayıldığı ortam değiştirilirse ses değişir.  
III. Farklı ses kaynaklarından çıkan sesler farklıdır.

Ses ile ilgili yukarıdaki bilgilerden hangileri doğrudur?

- A) I ve II.      B) II ve III.      C) I ve III.      D) I, II ve III.

6. Şekildeki elektrik devresinde ampuller ışık vermektedir.



Aşağıdakilerden hangisi yapılırsa ampuller ışık verir?

- A) Bir ampul daha eklenmeli  
B) Anahtar kapatılmalı  
C) Bir ampul çıkarılmalı  
D) Bir pil çıkarılmalı

7. • İyi bir iletkendir.  
• Kolay şekil verilebilir.  
• Ev eşyalarında ve elektrik endüstrisinde kullanılır.

Verilen bilgiler aşağıdaki madenlerden hangisine aittir?

- A) Bor      B) Kömür      C) Bakır      D) Civa

8. I. Mağara  
II. Ilıca  
III. Şelale

Verilenlerden hangilerininin oluşturduğu yapılar doğal anıt olarak kullanılır?

- A) Yalnız I      B) I ve II.  
C) II ve III.      D) I, II ve III.

9. Isı ve sıcaklıkla ilgili aşağıda verilen bilgilerden hangisi doğrudur?

- A) Sıcaklık bir enerjidir.  
B) Isı termometre ile ölçülür.  
C) Sıcaklık birimi joule'dür.  
D) Sıcaklığı yükselen her madde ısı almıştır.

# 1. OTURUM

10. Bir deneyde gaz maddede yoğunlaşma olayı gözleniyor.

**Bu deneyde maddede aşağıdakilerden hangisi gerçekleşmez?**

- A) Isı verme  
B) Isı alma  
C) Hâl değiştirme  
D) Sıvı hâle geçme

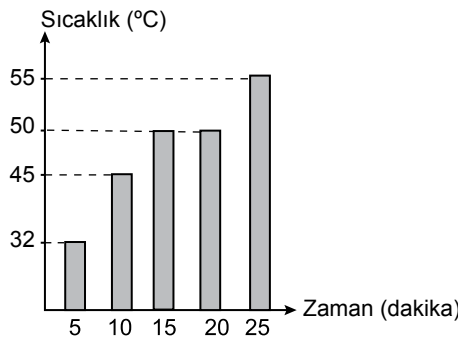
11. K, L ve M saf maddelerinin erime sıcaklığı verilmiştir.

Madde	Erime Sıcaklığı (°C)
K	0
L	20
M	40

**Buna göre aşağıdakilerden hangisi söylenemez?**

- A) K maddesi 0° C'ta donar.  
B) L maddesi için 20 °C ayırt edici özelliktir.  
C) K maddesi erimeye başladığında M maddesi katı hâdedir.  
D) M maddesinin tamamı 50 °C'ta katı hâdedir.

12. Saf katı bir maddenin sıcaklık - zaman grafiği verilmiştir.



**Bu grafiğe göre aşağıdakilerden hangisi söylenemez?**

- A) Maddede hâl değişimi olurken sıcaklığı aynı kalmıştır.  
B) Maddenin erime sıcaklığı 50 °C'tur.  
C) Madde 5. dakikada erimeye başlamıştır.  
D) Maddenin tamamı eridikten sonra sıcaklığı artmıştır.

13. İnsan vücudunda yapıcı — onarıcı olarak görev yapan besin grubu aşağıdakilerden hangisidir?

- A) Proteinler  
B) Vitaminler  
C) Yağlar  
D) Karbonhidratlar

14. Temel besin gruplarını içeren besin piramidinin en altında hangi besin grubu bulunur?

- A) Meyveler  
B) Sebzeler  
C) Tahıllar  
D) Yağlar

15. Dişlerle ilgili verilen bilgilerden hangisi yanlıştır?

- A) Şekil ve görevlerine göre dört çeşit diş vardır.  
B) Alt ve üst çenede toplam 8 tane kesici diş bulunur.  
C) Azı dişlerinin yüzeyi geniş ve girintilidir.  
D) Kesici dişler besinleri ufalayıp öğütür.

16. Aşağıda vücudumuzdaki bazı faaliyetler verilmiştir.

**Bunlardan hangisi böbrekler tarafından gerçekleştirilir?**

- A) Kan içindeki zararlı atıkları ve üreyi süzerek vücuttan uzaklaştırmak  
B) Proteinlerin sindirimi sonucunda oluşan zehirli maddeyi daha az zararlı olan üreye dönüştürmek  
C) Su, safra ve besin atıklarını vücuttan dışarı atmak  
D) Kan içindeki karbondioksiti vücuttan dışarı atmak

17. • Yeryüzünün her yerinde yaşarlar.  
• Bir kısmı insan sağlığına zararlıdır.  
• Bazıları besinlerin mayalanmasında etkilidir.

**Özellikleri verilen canlılar aşağıdaki gruplardan hangisinde yer alırlar?**

- A) Şapkalı mantarlar  
B) Mikroskopik canlılar  
C) Çiçeksiz bitkiler  
D) Omurgasız hayvanlar

# 1. OTURUM

18. • Menekşe  
• Kara yosunu  
• Papatya

Verilen bitkilerin ortak özelliği aşağıdakilerden hangisidir?

- A) Çiçekli olma  
B) Tohumlu olma  
C) Kendi besinini üretme  
D) Su içinde yaşama

19. Tabloda bazı canlılar numaralandırılarak verilmiştir.

Kurbağa ①	Arı ②	Yılan ③
Salyangoz ④	Alabalık ⑤	Deniz yıldızı ⑥

Bunlardan hangileri omurgasız hayvanlar grubunda yer alır?

- A) 1 ve 3  
B) 2, 4 ve 6  
C) 3 ve 5  
D) 2, 5 ve 6

20. Aşağıdakilerden hangisi çevre sorunlarından biri değildir?

- A) Doğal yaşam alanlarının korunması  
B) Ormanlık alanların tahrip edilmesi  
C) Sanayileşme ve plansız kentleşme  
D) Havayı kirleten gazların artması

## (633) SOSYAL BİLGİLER – 6

1. Atatürk'ün, Türkçenin araştırılması ve geliştirilmesi için kurduğu kurum aşağıdakilerden hangisidir?

- A) Halkevleri  
B) Türk Ocakları  
C) Türk Dil Kurumu  
D) Türk Tarih Kurumu

2. Aşağıdaki cümlelerden hangisi bir olgu bildirmektedir?

- A) Basketbol çok eğlencelidir.  
B) Akşam izlediğim film çok iyiydi.  
C) Benim köyüm çok güzeldir.  
D) Türkiye'nin başkenti Ankara'dır.

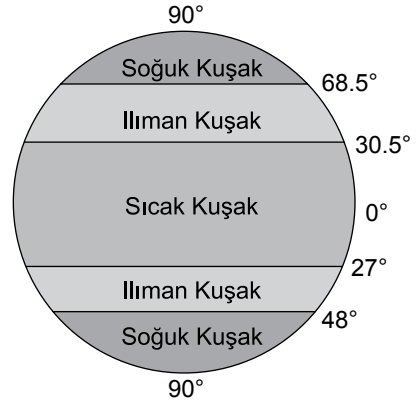
3. Dünyayı tam ortadan ikiye ayırdığı varsayılan paralel çizgi aşağıdakilerden hangisidir?

- A) Meridyen  
B) Ekvator  
C) Geoit  
D) Kutup

4. Türkiye fiziki haritasında aşağıdakilerden hangisi gösterilemez?

- A) Sinop – Samsun il sınırı  
B) Toros Dağları'nın uzanışı  
C) Kızılırmak Nehri'nin kıvrımı  
D) Çarşamba Ovası'nın çıkıntısı

- 5.



Yukarıda verilen şekle göre ülkemiz hangi kuşakta yer alır?

- A) Soğuk B) Sıcak C) Ilıman D) Tropikal

6. Aşağıdakilerden hangisini anlamca "Karlı yıl varlı yıl" atasözüyle ilişkilendirebiliriz?

- A) Karın çok olduğu yıllarda enerji tüketimi artar.  
B) Kar yağışının çok olduğu yıllarda ürünlerde bolluk olur.  
C) Karlı geçen kıştan sonra yaz mevsiminde Akdeniz Bölgesi'nde turizm patlar.  
D) Karın çok olduğu yıllarda Anadolu'nun iç ve doğu bölgelerinde birçok yerleşim yerinin karayolu bağlantısı kesilir.

7. İlk Çağ uygarlıklarından Sümerler tarım faaliyetlerini düzenlemek için ay ve güneşin hareketlerini incelemişlerdir.

Buna göre Sümerlerin aşağıdaki bilim dallarından hangisinde ileri gittikleri beklenir?

- A) Tıp  
B) Kimya  
C) Eczacılık  
D) Astronomi



# 1. OTURUM

8. Aşağıdaki İlk Çağ uygarlıklarından hangisinin krallarına "Midas" unvanı verilmiştir?

- A) Frig B) Hitit C) Lidya D) Urartu

9. Aşağıdaki ilk çağ medeniyetlerinden hangisi Anadolu'da kurulmamıştır?

- A) Hitit B) Lidya C) Babil D) Urartu

10. I. Kök Türk hükümdarı Bumin Kağan, ülkesinin batı bölgelerine "yabgu" unvanıyla, aşağıdakilerden hangisini atamıştır?

- A) Kutluk B) İstemi  
C) Kapgan D) Mukan

11. Aşağıdaki Türk devletlerinden hangisi avlanmayı, et yemeyi ve savaşmayı yasaklayan Mani dinini devletin resmî dini olarak kabul etmiştir?

- A) Karluk B) Kutluk  
C) Uygur D) Hazar

12. Dört Halife Dönemi olarak adlandırılan dönemde ilk halife aşağıdakilerden hangisidir?

- A) Hz. Ebu Bekir B) Hz. Osman  
C) Hz. Ömer D) Hz. Ali

13. Aşağıda verilen hükümdar – devlet eşleştirmelerinden hangisi yanlıştır?

- A) Satuk Buğra Han – Asya Hun  
B) Tuğrul Bey – Büyük Selçuklu  
C) Sultan Mesut – Gazne  
D) Bilge Kül Kadir Han – Karahanlı

14. Aşağıdakilerden hangisi, ormanların faydalarından değildir?

- A) Erozyonu engellemesi  
B) Su kaynaklarını koruması  
C) Sanayiye ham madde olması  
D) Trafik akışına yardımcı olması

15. Ülkemizdeki akarsular, aşağıdakilerden hangisinin üretimine kaynaklık eder?

- A) Enerji B) Bor  
C) Turizm D) Doğalgaz

16. Aşağıdakilerden hangisi Kızılay'ın görevleri arasındadır?

- A) Ağaç dikimini özendirmek  
B) Doğal afete uğrayanlara yardım etmek  
C) Çevre sorunlarını gidermeye çalışmak  
D) Kişileri kötü alışkanlıklardan korumak

17. Kutuplar, çöller ve bataklık alanlar, - - - - yönünden benzer özelliklere sahiptir.

**Cümlede boş bırakılan yere aşağıdakilerden hangisi yazılmalıdır?**

- A) iklim B) yükselti  
C) bitki örtüsü D) nüfusun dağılışı

18. Aşağıdaki devlet görevlilerinden hangisi seçimle işbaşına gelmez?

- A) Muhtar B) Devlet bakanı  
C) Belediye başkanı D) Diyanet işleri başkanı

19. Demokrasi kavramı, aşağıdaki Atatürk ilkelelerinden hangisiyle doğrudan ilgilidir?

- A) Cumhuriyetçilik B) Milliyetçilik  
C) İnkılapçılık D) Devletçilik

20. Aşağıdakilerden hangisinin yapılmasından toplum bir fayda görmez?

- A) Organ ve doku bağışından  
B) Korsan ürünlerin satışından  
C) Aşının bulunmasından  
D) Nanoteknolojinin kullanılmasından

(634) İNGİLİZCE – 6

1-20. sorularda boş bırakılan yere uygun gelen kelime ya da ifadeyi işaretleyiniz.

1. My brother Jack works at a restaurant, he - - - - a waiter.

- A) is B) am C) are D) does

# 1. OTURUM

2. My sister is a teacher and - - - - name is Tina.

- A) my B) his C) her D) their

3. Salesman : What size - - - - your jumper?  
Customer : Large.

- A) were B) do C) are D) is

4.

tall	x	short
poor	x	- - - -
thin	x	- - - -

- A) rich / fat B) new / old  
C) hot / cold D) old / young

5. We have a car but - - - - is very old.

- A) I B) it C) we D) you

6. - - - - has got a mobile phone?

- A) Which B) Where  
C) What D) Who

7. Ethan : Can you ride a horse?  
Jason : No, I can't, but - - - -.

- A) I can ride a horse  
B) I can't ride a horse  
C) I can ride a motorbike  
D) I can't ride a motorbike

8.



The bicycle shop is - - - - the supermarket and the bookstore.

- A) in front of B) between  
C) behind D) under

9. Max : Excuse me, - - - -?  
Tom : It is half past nine.

- A) how are you B) how old are you  
C) what is his name D) what is the time


10.



It is - - - -.

- A) quarter past eleven B) quarter to eleven  
C) quarter past ten D) quarter to ten

11.



My father is - - - -.

- A) tall and fat B) tall and thin  
C) short and fat D) short and thin

12. Jerry : - - - -?

James : He is tall, fit and very handsome.

- A) Do you like Sinan  
B) Does Sinan like you  
C) What does Sinan like  
D) What does Sinan look like

13. - - - - seven days in a week.

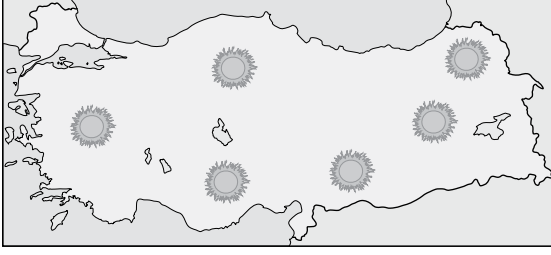
- A) There aren't B) There isn't  
C) There are D) There is

14. Next year, my brother and I - - - - join a summer camp.

- A) is going to B) are going to  
C) doesn't go D) don't go

# 1. OTURUM

15.



**Joe** : What is the weather like today in Turkey?  
**Serdar**: It is - - - - .

- A) snowy and freezing
- B) sunny and warm
- C) rainy and cool
- D) foggy and hot

16. You - - - - drive slowly, it is safe.

- A) must
- B) shall
- C) cannot
- D) may not

17. My brother - - - - computer games at the moment.

- A) play
- B) plays
- C) is playing
- D) is going to play


18. My sister treats people. She - - - - a doctor.

- A) -
- B) is
- C) am
- D) are

19. I can't afford that car because it is too - - - - .

- A) old
- B) cheap
- C) simple
- D) expensive

20.



The cat is - - - - the table.

- A) on
- B) near
- C) under
- D) behind

(634) ALMANCA – 6

1-12. sorularda boş bırakılan yere uygun gelen ek, kelime ya da ifadeyi işaretleyiniz.

1. A: - - - -

B: Ahmet.

- A) Woher kommst du Ahmet?
- B) Wo wohnst du?
- C) Wie heißt du?
- D) Bist du Ahmet?

2. A: - - - - möchtest du gerne?

B: Einen Döner bitte.

- A) Wo
- B) Was
- C) Wie
- D) Wer

3. A: Wie - - - - ist Fatma?

B: Siebzehn.

- A) alt
- B) ist
- C) sind
- D) haben

4. A: - - - - Sie?

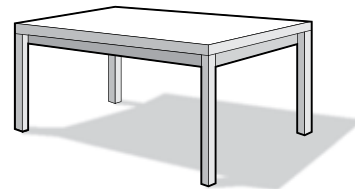
B: Limonade.

- A) Was machst
- B) Wann isst
- C) Wo laufen
- D) Was trinken

5. Am Sonntag - - - - er ins Theater.

- A) kauft
- B) geht
- C) liest
- D) hört

6.



A: Ist das ein Schrank?

B: Nein, das ist - - - - Schrank.

- A) ein
- B) eine
- C) kein
- D) keine

# 1. OTURUM

## 7. Mittwoch, ----, Freitag

- A) Donnerstag                      B) Samstag  
C) Sonntag                          D) Dienstag

## 8. A: ---- kommen Sie? B: Aus Konya.

- A) Womit                              B) Was  
C) Wie                                  D) Woher

## 9. A: Was machst du? B: ----.

- A) Du machst deine Hausaufgaben.  
B) Ich lese ein Buch.  
C) Wir gehen in die Schule.  
D) Er kommt aus Deutschland.

## 10. A: Entschuldigung, ---- B: Es ist drei Uhr.

- A) wie spät ist es?  
B) wo ist die Uhr?  
C) wie geht es Ihnen?  
D) woher kommt es?

## 11. Er ---- jeden Tag zur Schule gehen. (zorunluluk)

- A) darf                                  B) kann  
C) muss                                  D) will

## 12. Hans: Wie heißt sie? Eda : ----

- A) Sie sind Deutsche.  
B) Ich heiße Eda.  
C) Er heißt Klaus  
D) Sie heißt Monica.

## 13. Aşağıdakilerden hangisi fiil değildir? (Verb)

- A) sprechen                          B) laut  
C) laufen                              D) essen

## 14.



### Was ist sein Hobby?

- A) Singen                              B) Malen  
C) Laufen                              D) Lesen

## 15. Aşağıda verilen sözcükleri sıralayarak anlamlı bir cümle oluşturunuz.

in / Esra / die Schule / geht  
1        2                      3                      4

- A) 1 – 2 – 3 – 4  
B) 3 – 1 – 4 – 2  
C) 4 – 3 – 2 – 1  
D) 2 – 4 – 1 – 3

## 16. "achtundzwanzig" in sayı şekli aşağıdakilerden hangisidir?

- A) 80                      B) 28                      C) 82                      D) 38

## 17. Aşağıdakilerden bir grupta yapıldığında hangisi uymaz?

- A) Orange                              B) Apfel  
C) Banane                              D) Brot

## 18.



### Was ist das?

- A) Fernseher                          B) Auto  
C) Kühlschrank                      D) Schreibtisch

## 19. Aşağıdakilerden hangisi sıfat değildir? (Adjektiv)

- A) groß                                  B) lang  
C) laufen                              D) alt

# 1. OTURUM

20.



Yukarıdaki resimde ne söylenir? (Günaydın)

- A) Guten Nachmittag B) Hallo  
C) Guten Morgen D) Entschuldigung

## (634) FRANSIZCA – 6

1-13. sorularda boş bırakılan yere uygun gelen kelime ya da ifadeyi işaretleyiniz.

1. **Nous sommes** - - - -.

- A) belge B) chinoises  
C) irlandaise D) turque

2. **Pascal** : - - - - ont les jumeaux de Melek ?  
**Orhan** : Ils ont seize ans.

- A) Pourquoi B) Comment  
C) Quelle D) Quel âge

3. **Zoé** : - - - - vas-tu ?

**Paul** : Très bien, merci. Et toi ?

- A) Comment B) Quel  
C) Parce que D) Pourquoi

4. **Jean** : Selma est fiancée ?

**Ayşe** : Non, elle est - - - - depuis quatre mois.

- A) mince B) avocate  
C) mariée D) divorcé

5. - - - - est le musée de mosaïque ?

- A) Quand B) Ou  
C) Où D) Combien

6. **Dans les pâtisseries, on vend** - - - -.

- A) des chocolats et des gâteaux  
B) des saucissons et des saucisses  
C) des chapeaux et des foulards  
D) du yaourt et du fromage

7. **Alain** : Vous aimez le patin à glace ?

**Zehra** : Non, je - - - - le patin à glace.

- A) avez aimé B) ne pas aimer  
C) aimer D) n'aime pas

8. **Pierre** : - - - - tu achètes le casque ?

**Sophie** : Parce que je fais du vélo.

- A) Quelle B) Pourquoi  
C) Où D) Comment

9. **Fabien** : Tu manges des céréales  
au petit-déjeuner ?

**Serhat** : Non, je ne mange jamais - - - -  
céréales au petit-déjeuner.

- A) les B) de C) du D) des

10. **Seda vit** - - - - **Genève** - - - - **Suisse**.

- A) en / aux B) aux / à  
C) à / en D) à / au

11. **Erkan** : Qui est-ce ?

**Odile** : C'est - - - -.

- A) un pianiste français  
B) une piscine municipale  
C) une salle de cinéma  
D) une voiture italienne

12. **Je vais** - - - - **pour faire des courses**.

- A) au concert B) au supermarché  
C) à l'école D) à la bibliothèque

13. **Ayla** : - - - - ?

**Paul** : Non merci, je viens de boire du thé vert.

- A) Une piscine B) Un café  
C) Un jardin public D) Une avocate

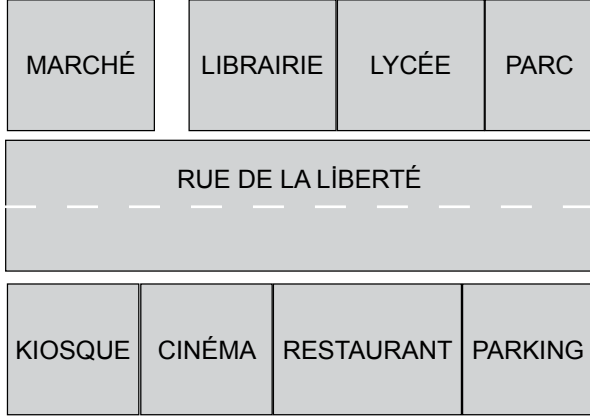
# 1. OTURUM

14. Aşağıdakilerden hangisi "69" sayısının doğru yazılışdır?

- A) Soixante-dix-neuf B) Soixante-six  
C) Soixante-neuf D) Quatre-vingt-six

15-20. soruları resimleri dikkate alarak cevaplayınız.

15.




Le lycée est - - - - .

- A) devant le cinéma  
B) en face du kiosque  
C) à côté du restaurant  
D) entre la librairie et le parc

16. Le kiosque est - - - - .


- A) au coin de la rue de la Liberté  
B) derrière le lycée  
C) entre le restaurant et le parking  
D) en face du parc

17.



- A) Il est onze heures moins vingt.  
B) Il est onze heures.  
C) Il est onze heures vingt.  
D) Il est onze heures et demie.

18.



Il est - - - - et il porte - - - - .

- A) gaie / un pyjama  
B) grosse / un pantalon  
C) sérieux / une cravate  
D) blond / des lunettes


19.



Elle est - - - - .

- A) pharmacienne B) infirmière  
C) journaliste D) photographe

20.



- A) Il est quatre heures.  
B) Il est quatre heures et demie.  
C) Il est quatre heures moins le quart.  
D) Il est quatre heures et quart.

# 1. OTURUM

## (635) DİN KÜL. VE AHLAK BİLGİSİ – 6

### 1. Peygamberlerin insanlardan seçilmesine itiraz eden müşriklere Kur'an-ı Kerim aşağıdaki ayetlerden hangisiyle cevap vermiştir?

- A) "Allah, gökleri gördüğünüz herhangi bir direk olmadan yükselten, sonra Arş'a kurulan, güneşi ve ayı buyruğu altına alandır..."  
(Ra'd suresi, 2. ayet)
- B) "De ki: 'Yeryüzünde gezip dolaşanlar melek olsalardı, biz de onlara gökten peygamber olarak bir melek gönderirdik.'  
(İsrâ suresi, 95. ayet)
- C) "Rablerini inkâr edenlerin durumu şudur: Onların işleri, fırtınalı bir günde rüzgârın şiddetle savduğu küle benzer. (Dünyada) kazandıkları hiçbir şeyin (ahirette) yararını görmezler..."  
(İbrâhim suresi, 18. ayet)
- D) "Allah'ın size lütfu ve merhameti olmasaydı ve Allah tövbeleri kabul eden, hüküm ve hikmet sahibi olmasaydı, hâliniz nice olurdu?"  
(Nur suresi, 10. ayet)

2. " Onlar (peygamberler) büyük günahlardan ve hayâsızlıktan kaçınırlar..."  
(Şûrâ suresi, 37. ayet)

### Bu ayette peygamberlerin niteliklerinden hangisine işaret edilmektedir?

- A) İsmet  
C) Emanet
- B) Fetanet  
D) Tebliğ

### 3. Zebur aşağıdaki peygamberlerden hangisine gönderilmiştir?

- A) Hz. Yusuf  
C) Hz. Davud
- B) Hz. Musa  
D) Hz. Süleyman

### 4. "Dinin direği" ve "müminin miracı" olarak nitelenen ibadet aşağıdakilerden hangisidir?

- A) Kurban  
C) Zekat
- B) Oruç  
D) Namaz

### 5. Aşağıdakilerden hangisi namazın hazırlık şartlarındandır?

- A) Niyet  
C) Kıyam
- B) Kıraat  
D) Kade-i ahire

### 6. Aşağıdaki namazlardan hangilerinin kılınışları aynıdır?

- A) Akşam namazının farzı - Yatsı namazının farzı  
B) Öğle namazının sünneti - Öğle namazının farzı  
C) Sabah namazının farzı - Akşam namazının farzı  
D) İkinci namazının sünneti - Yatsı namazının sünneti

### 7. Teravih namazı ile ilgili aşağıdaki bilgilerden hangisi yanlıştır?

- A) Sünnet bir namazdır.  
B) Cemaat ile kılınması zorunludur.  
C) Genellikle yirmi rekât olarak kılınır.  
D) Yatsı namazı ile vitir namazı arasında kılınır.

### 8. Aşağıdaki namazlardan hangisi farz-ı kifayedir?

- A) Cuma  
C) Cenaze
- B) Teravih  
D) Bayram

### 9. Aşağıdakilerden hangisi Hz. Muhammed (sav.)'e inanan ilk dört kişiden biri değildir?

- A) Hz. Ali  
C) Hz. Hatice
- B) Hz. Osman  
D) Hz. Zeyd

10. İslam'a çağrının yaygınlaşmaya başladığı dönemde müşrikler zayıf ve fakir Müslümanlara yaptıkları baskıyı arttırdılar. Bunun üzerine Hz. Peygamber bazı Müslümanların Hz. Osman liderliğinde - - - - hicret etmesine izin verdi.

### Boş bırakılan yere aşağıdakilerden hangisi getirilmelidir?

- A) İran'a  
C) Medine'ye
- B) Kudüs'e  
D) Habeşistan'a

### 11. Aşağıdakilerden hangisi Mescid-i Nebi'nin Hz. Peygamber dönemindeki işlevleri arasında yer almaz?

- A) Gelen heyetlerin ağırlanması  
B) Maddi yardımların dağıtılması  
C) Yahudilere ibadet alanı sağlaması  
D) Müslümanların problemlerine çözüm aranması

# 1. OTURUM

12. • Müşriklerin Bedir'in intikamını almak istemeleri sonucu başlamıştır.  
• Hz. Peygamber savunma savaşı istemesine rağmen çoğunluk istediği için meydan savaşı olarak yapılmıştır.  
• Savaşın başlarında Müslümanlar üstün gelmesine rağmen okçuların yerlerini terk etmesi sonucu bir bozgun yaşanmıştır.

**Hakkında bilgi verilen savaş aşağıdakilerden hangisidir?**

- A) Uhud B) Tebük C) Mute D) Hendek

13. "Çiçekli cennet bahçesi" anlamına gelen ve Hz. Peygamber'in kabrini ifade eden kavram aşağıdakilerden hangisidir?

- A) Refik'ül- Alâ B) Cennet'ül- Meva  
C) Sitret'ül-Münteha D) Ravza-i Mutahhara

14. "Onlar ki, faydasız işlerden ve boş sözlerden yüz çevirirler."  
(Müminun suresi 3. ayet)

**Bu ayet Kur'an-ı Kerim'in ana konularından hangisine örnek oluşturmaktadır?**

- A) İnanç B) İbadet  
C) Ahlak D) Kıssalar

15. Sabrı ile tanınmış olan peygamber aşağıdakilerden hangisidir?

- A) Hz. Eyüp B) Hz. Yahya  
C) Hz. Şuayb D) Hz. Zekeriya

16. Aşağıdakilerden hangisi âlimlerin yalan söylebileceğini ifade ettiği durumlardan biri değildir?

- A) Savaş  
B) Ticaret  
C) Darginların arasını düzeltmek  
D) Bir aileyi yıkılmaktan kurtarmak

17. Müslüman bir kardeşinin kusurunu örten bir kimsenin Allah hem bu dünyada hem de ahirette ayıplarını örter.

**Bu hadis ile Müslümanların sakınmaları istenen davranış aşağıdakilerden hangisidir?**

- A) Kibir  
B) Alay etmek  
C) Birinin kusurunu başkasına söylemek  
D) Anne, baba ve büyüklere saygısızlık

18. Aşağıdakilerden hangisi İslam'ı kabul eden ilk Türk devletlerinden biri değildir?

- A) İtil Volga Bulgar Devleti  
B) Karahanlılar  
C) Gazneliler  
D) Osmanlı Devleti

19. "Piri Türkistan" olarak tanınan Türk-İslam büyüğü aşağıdakilerden hangisidir?

- A) Hoca Ahmet Yesevi  
B) Ebu Hanife  
C) Ahi Evran  
D) Mevlana

20. Kiblenin tayini, namaz vakitlerinin belirlenmesi, zekatın hesaplanması ve mirasın paylaşılması gibi konular sebebi ile İslam bilginleri aşağıdaki bilim dallarından hangisi alanında çalışmalarını yoğunlaştırmışlardır?

- A) Tarih B) Biyoloji  
C) Sosyoloji D) Matematik

(730) TÜRKÇE – 7

1. Aşağıdaki cümlelerde altı çizili kelimelerden hangisi mecaz anlamıyla kullanılmıştır?

- A) Bu kafayla bu işe girersen başarılı olamazsın.  
B) İki açık sarı tel alınının ortasına yapışmıştı.  
C) Yaramaz çocuk taşın üstünden inip yere oturdu.  
D) Sırtında hep aynı kahverengi elbiseyle geziyordu.



# 1. OTURUM

2. Aşağıdaki atasözlerinin hangisinde zıt anlamlı kelimeler bir arada kullanılmıştır?

- A) Evdeki hesap çarşıya uymaz.
- B) Altın eşik gümüş eşige muhtaçtır.
- C) Harman döven öküzün ağzı bağlanmaz.
- D) Baca eğri de olsa dumanı doğru çıkar.

3. "Yatmak" kelimesi aşağıdaki cümlelerin hangisinde "bir işin, durumun yürümemesi; başarısızlıkla sonuçlanması" anlamında kullanılmıştır?

- A) Mallar depoda yatıyor.
- B) Bizim araba beş gündür evin önünde yatıyor.
- C) Bu yaz için yaptığımız tatil planı yattı.
- D) Sinop'ta mola verir, öğretmen evinde yatarız.

4. Aşağıdaki cümlelerin hangisinde beğeni anlamı vardır?

- A) Kendisine altın bir kolye hediye ettim.
- B) Bu futbolcuyu da çok şişiriyorlar.
- C) Şair dediğin işte böyle olmalı.
- D) Keşke zamanında onu dinlemiş olsaydım.

5. Aşağıdaki cümlelerin hangisinde amaç-sonuç ilişkisi vardır?

- A) Renkli kostümlerini giyen çocukların gösterileri akşama kadar sürmüştü.
- B) Penguenler, Antarktika'ya müthiş bir sıcaklık ve sevecenlik katıyor.
- C) Günümüzde yaşayan asırlık insanların sayısı hayli fazla.
- D) Nesli tükenen hayvanların korunması için ilginç bir kampanya başlatılmıştı.

6. Acısı kaç paredir ovanın  
Kaç renkle yetişir gülü yaylanın  
Dalgası nasıl köpürür  
Nasıl vurur kıyıya deniz ne bileyim  
Ben dağları bilirim

Bu şiirde kişileştirilen varlık aşağıdakilerden hangisidir?

- A) Ova
- B) Yayla
- C) Dalga
- D) Dağ

7. "Dünyada on bin mil yol almak, on bin sayfa kitap okumaktan iyidir." cümlesiyle aynı anlama gelen atasözü aşağıdakilerden hangisidir?

- A) Dünya malı dünyada kalır.
- B) Çok okuyan değil çok gezen bilir.
- C) Gezen ayağa taş değer.
- D) Bilmemek ayıp değil, öğrenmemek ayıp.

8. Aşağıdakilerden hangisi dinlemede güçlük yaratan nedenlerden biri değildir?

- A) Konuşana önem vermemek
- B) Oturulan yerde rahat edememek
- C) Konuya ilgi duymamak
- D) Herhangi bir engeli bulunmamak

9. Aşağıdaki konuşma yöntem ve tekniklerinden hangisinin amacı "dinleyicileri konuşma sürecine dâhil ederek konunun anlaşılmasını kolaylaştırmak ve konuya farklı bakış açıları getirmek"tir?

- A) Gülümlü konuşma
- B) Eleştirel konuşma
- C) Katılımlı konuşma
- D) Yaratıcı konuşma

10. Kim demiş sonsuz hüznün var diye  
Mutluluk senin olduğun yerde yine  
Tatlar, sesler ve renklerin hepsi sende  
Sadece kafanı kaldır ve bak gökyüzüne

Bu dördümlüğün konusu aşağıdakilerden hangisidir?

- A) Sonsuzluk
- B) Mutluluk
- C) Renkler
- D) Gökyüzü

11. Fadiş nine, torunu Perinaz'a şöyle öğüt verir: "Sen benim söylediğim tüm övgüleri hak ediyorsun, yeter ki - - - -"

Bu metin aşağıdakilerden hangisiyle tamamlanırsa Perinaz'ın olumsuz bir kişilik özelliğinin de olduğu anlaşılır?

- A) kendini başkasının yerine koymayı öğren.
- B) güzel ve iyi kalpli olmaktan yorulma kızım.
- C) sultan kızı da olsan halkla iç içe olmayı sürdür.
- D) alçakgönüllü olmaktan hiç vazgeçme yavrum.

# 1. OTURUM

12. (1) Antalya il sınırlarında akan Manavgat Çayı, 93 km yol kat ediyor. (2) Manavgat'a birkaç kilometre kala yeşillikler içinde 5 metrelik bir seti aşılıyor. (3) Ziyaretçilerin, şelaleyi izleyebilmesi için burada çevre düzenlemesi yapılmış. (4) Manavgat Şelalesi güzelliği ve serinliğiyle sıcak havalarda Antalya'da başlıca kaçış noktalarından biri.

**Bu metinde numaralanmış cümlelerin hangisi öznel bir yargıdır?**

- A) 1. B) 2. C) 3. D) 4.

13. Kelebek, böceklerin pul kanatlılar takımının kanatlı fertlerine verilen genel addir. 150.000 kadar türü bilinmektedir. Vücutları kiremit dizilişi şeklinde renkli pullarla örtülüdür. Ağzıları hortum şeklindedir.

**Bu metinde aşağıdaki düşünceyi geliştirme yollarından hangisi kullanılmamıştır?**

- A) Betimleme  
B) Tanımlama  
C) Sayısal ifadelerden yararlanma  
D) Karşılaştırma

14. Aşağıdaki cümlelerin hangisinde farklı bir zarf kullanılmıştır?

- A) Çocuklar içeride uslu uslu oynuyorlardı.  
B) Dedem kışın şehir merkezindeki evine giderdi.  
C) Arkadaşımın yarın Kızılay'da görüşeceğiz.  
D) Yazdığım fıkraları uyumadan önce okurum.

15. "Katıl-" fiilinin geniş zaman, 1. çoğul şahıs, olumlu, soru biçimine göre çekimi aşağıdakilerden hangisidir?

- A) Katılmaz mısınız? B) Katılır mıyız?  
C) Katılacak mısınız? D) Katılmamışlar mı?

16. Aşağıdaki cümlelerin hangisinde fiil farklı bir kiple çekimlenmiştir?

- A) Buradaki orman yıllar önce yanmış.  
B) Yaz tatilinde doya doya kitap okudum.  
C) Kendinden küçükleri her zaman korur.  
D) İşinle ilgili konularda kendin karar vermelisin.

17. "Akşamleyin evde kardeşinle ilgilenmelisin." cümlesinde hangi kelime vurgulanmak istenmiştir?

- A) akşamleyin B) evde  
C) kardeşinle D) ilgilenmelisin

18. Aşağıdaki cümlelerin hangisinde ek fiil farklı bir görevde kullanılmıştır?

- A) Yeni taşındıkları ev okula çok uzaktı.  
B) Herkesin beğenerek okuyacağı bir kitaptı.  
C) Ailesinden uzun bir süre ayrı kalacaktı.  
D) Kestiği ekmeğin dilimleri incecikti.

19. Aşağıdaki cümlelerin hangisinde sayıların yazımıyla ilgili bir yanlışlık yapılmıştır?

- A) Hastalığı sebebiyle işine on beş gün ara vermişti.  
B) Yangın, kısa sürede 2.'nci kata sıçramıştı.  
C) Atık kâğıt için bin üç yüz kilo gazete toplandı.  
D) Erciyes Dağı, 3917 m yüksekliğinde sönmüş bir yanardağdır.

20. Çalıştım, çabaladım, bu günlere geldim.

**Bu cümledeki virgölün kullanım amacı aşağıdakilerden hangisidir?**

- A) Tırnak içine alınmayan alıntı cümleleri belirtmek  
B) Cümle içinde ara sözleri ve ara cümleleri ayırmak  
C) Sıralı cümleleri birbirinden ayırmak  
D) Anlatıma güç kazandırmak

## (731) MATEMATİK – 7

1.  $(-5) - (-7) + (-3)$  işleminin sonucu kaçtır?

- A) -2 B) -1 C) 0 D) 1

2. 9 ve 12 yaşındaki iki kardeş 210 lirayı yaşlarıyla doğru orantılı olarak paylaşıyor.

**Küçük kardeş kaç lira almıştır?**

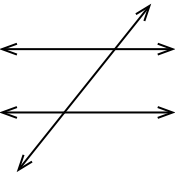
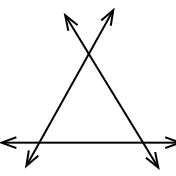
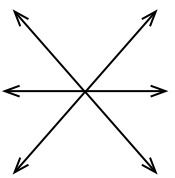
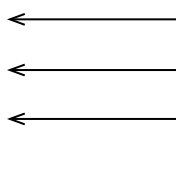
- A) 63 B) 90 C) 108 D) 120

# 1. OTURUM

3.  $\frac{3}{5}, \frac{3}{6}, \frac{3}{7}, \frac{3}{4}$  rasyonel sayılarının küçükten büyüğe doğru sıralanışı aşağıdakilerden hangisidir?

- A)  $\frac{3}{7} < \frac{3}{6} < \frac{3}{5} < \frac{3}{4}$       B)  $\frac{3}{5} < \frac{3}{7} < \frac{3}{4} < \frac{3}{6}$   
C)  $\frac{3}{4} < \frac{3}{5} < \frac{3}{6} < \frac{3}{7}$       D)  $\frac{3}{6} < \frac{3}{5} < \frac{3}{7} < \frac{3}{4}$

4. Düzlemde çizilen aşağıdaki hangi üç doğru noktadaştır?

- A)       B)   
C)       D) 

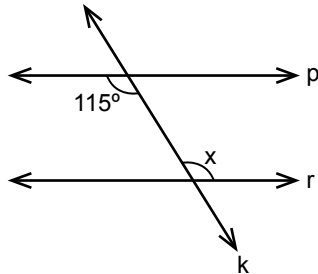
5. 24 sayısının %25' i ile %150' sinin toplamı kaçtır?

- A) 36      B) 42      C) 48      D) 54

6.  $2 + \frac{1}{1 + \frac{3}{2}}$  işleminin sonucu kaçtır?

- A)  $\frac{5}{2}$       B)  $\frac{5}{3}$       C)  $\frac{13}{5}$       D)  $\frac{12}{5}$

7.



Yukarıdaki şekilde  $p \parallel r$  ve  $k$  bir kesendir.

Şekilde verilenlere göre  $x$  kaç derecedir?

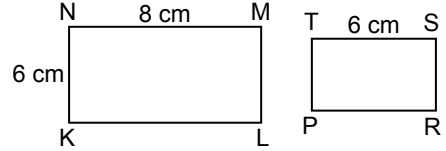
- A) 65      B) 85      C) 105      D) 115

8. Mehmet cebindeki 50 liranın  $\frac{2}{5}$ ' si ile yiyecek, kalan paranın  $\frac{1}{3}$ ' i ile içecek alıyor.

Buna göre Mehmet'in kaç lirası kalmıştır?

- A) 10      B) 15      C) 20      D) 25

9.

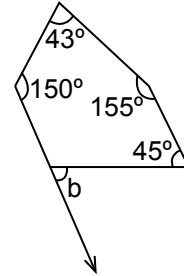


Yukarıdaki şekilde KLMN ve PRST dikdörtgenleri birbirine benzerdir.

Şekilde verilenlere göre  $|PT|$  kaç santimetredir?

- A) 3      B) 4,5      C) 5      D) 6,5

10.



Yukarıdaki şekilde verilenlere göre  $b$  kaç derecedir?

- A) 33      B) 57      C) 63      D) 77

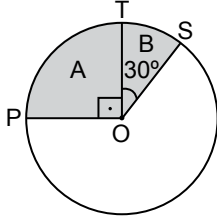
11. Yarıçap uzunluğu  $r = 4$  cm olan bir dik silindirin yüksekliği 12 cm dir.

Bu silindirin hacmi kaç santimetreküptür? ( $\pi$  yerine 3 alınız.)

- A) 144      B) 256      C) 494      D) 576

# 1. OTURUM

12.

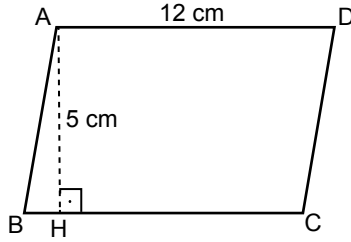


Şekildeki O merkezli dairede  $[OP] \perp [OT]$  ve  $s(\widehat{TOS}) = 30^\circ$  dir.

**A bölgesinin alanı  $120 \text{ cm}^2$  olduğuna göre B bölgesinin alanı kaç santimetrekaredir?**

- A) 30 B) 36 C) 40 D) 56

13.



Şekildeki ABCD dörtgeni bir paralelkenar,  $|AD| = 12 \text{ cm}$  ve  $|AH| = 5 \text{ cm}$  dir.

**$[AH] \perp [BC]$  olduğuna göre ABCD paralelkenarın alanı kaç santimetrekaredir?**

- A) 50 B) 60 C) 70 D) 80

14.  $(-3)^3$  ifadesinin eşiti aşağıdakilerden hangisidir?

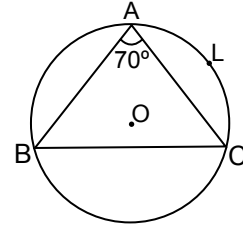
- A) 27 B) 9 C) -9 D) -27

15. 17, 17, 18, 5, 11, 16, 19, 5, 18, 18

**Yukarıdaki veri grubunun tepe değeri kaçtır?**

- A) 16 B) 17 C) 18 D) 19

16.



Yukarıdaki O merkezli çemberde ALC yayının ölçüsü  $100^\circ$  dir.

**$m(\widehat{A}) = 70^\circ$  olduğuna göre ACB açısının ölçüsü kaç derecedir?**

- A) 60 B) 70 C) 80 D) 90

17. Bir sınıftaki 24 öğrenciden 8' i gözlüklüdür.

**Bu sınıftan rastgele seçilen iki öğrenciden birincinin gözlüklü diğerinin gözlüksüz olma olasılığı kaçtır?**

- A)  $\frac{8}{23}$  B)  $\frac{8}{24}$  C)  $\frac{16}{33}$  D)  $\frac{16}{69}$

18.  $6x + 5 = 4x + 11$  denklemini sağlayan x değeri kaçtır?

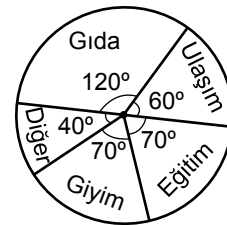
- A) -8 B) -3 C) 3 D) 8

19.  $-(2x - 5) + (3x - 2)$  cebirsel ifadesinin en sade şekli aşağıdakilerden hangisidir?

- A)  $5x - 7$  B)  $-x + 3$  C)  $x - 7$  D)  $x + 3$

20.

**Grafik:** Ahmet'in Maaşının Aylık Harcamalara Dağılımı



Maaşı 3600 TL olan Ahmet'in bir aylık harcamaları yukarıdaki grafikte gösterilmiştir.

**Buna göre gıdaya ayrılan harcama eğitim için ayrılan harcamadan kaç lira fazladır?**

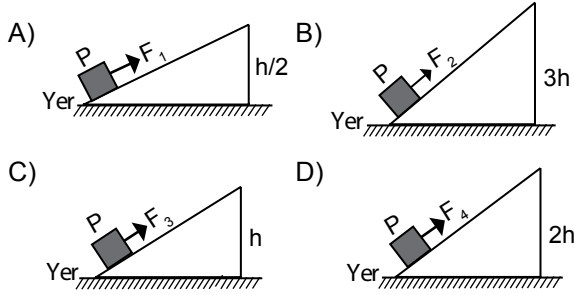
- A) 500 B) 600 C) 700 D) 1200

# 1. OTURUM

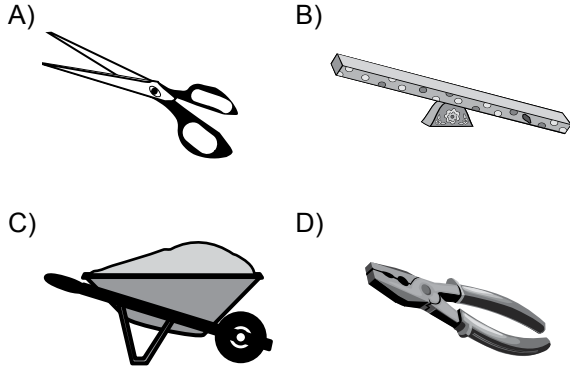
## (732) FEN VE TEKNOLOJİ – 7

1. Bir P yükü aynı uzunluktaki eğik düzlemler kullanılarak farklı yüksekliklere çıkarılıyor.

Buna göre hangisinde daha az kuvvet harcanarak P yükü yukarı çıkarılmıştır?



2. Aşağıda verilenlerden hangisi tek taraflı kaldıraç örneğidir?



3. Cam çubuk ipek kumaşa sürtülüyor.



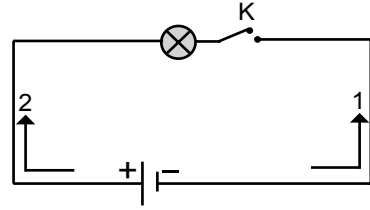
Buna göre

- I. Cam çubuk pozitif yük kazanmıştır.  
II. İpek kumaş negatif yük kazanmıştır.  
III. Cam çubuk ipek kumaşı iter.

İfadelerinden hangileri doğrudur?

- A) Yalnız I  
B) I ve II.  
C) II ve III.  
D) I, II ve III.

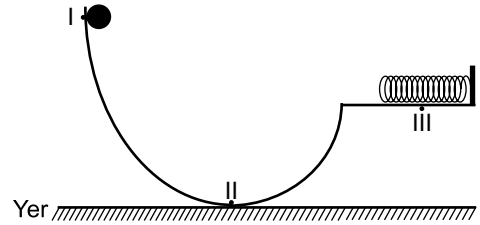
4. Şekilde basit bir elektrik devresi verilmiştir.



Bu devrede K anahtarı kapatıldığında oluşacak elektrik akımının yönü ve lambanın durumu için aşağıdakilerden hangisi doğrudur?

	Elektrik akımının yönü	Lamba
A)	1 yönünde	Yanar
B)	1 yönünde	Yanmaz
C)	2 yönünde	Yanar
D)	2 yönünde	Yanmaz

5. Şekilde I noktasında durgun hâldeki demir bilye serbest bırakıldığında III noktasına gelmektedir.



Buna göre I ve II noktalarından geçen bilyenin III noktasında ise yayın sahip olduğu enerji türleri hangisinde doğru verilmiştir?

	I	II	III
A)	Kinetik enerji	Çekim potansiyel enerjisi	Esneklik potansiyel enerjisi
B)	Esneklik potansiyel enerjisi	Kinetik enerji	Çekim potansiyel enerjisi
C)	Çekim potansiyel enerjisi	Kinetik enerji	Esneklik potansiyel enerjisi
D)	Kinetik enerji	Esneklik potansiyel enerjisi	Çekim potansiyel enerjisi

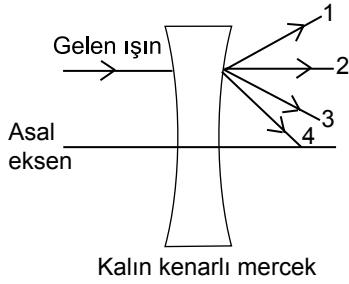
# 1. OTURUM

6. • Uçakların yerini belirlemede  
• Arabaların hızını ölçmede  
• Polis radarlarında

**Kullanım alanları verilen ışık türü aşağıdakilerden hangisidir?**

- A) Mor ötesi ışınlar      B) Mikro dalgalar  
C) Gama ışınları      D) X- ışınları

7.



**Kalın kenarlı merceğe gelen asal eksene paralel ışık ışını mercekten geçtikten sonra numaralandırılmış yollardan hangisini izler?**

- A) 1      B) 2      C) 3      D) 4

8. **Ayın hareketleri ile ilgili verilen**

- I. Kendi ekseni etrafında ve Dünyanın etrafında döner.  
II. Dünya ile birlikte Güneş etrafında döner.  
III. Kendi ekseni etrafındaki dönüş süresi, Dünyanın etrafındaki dönüş süresine eşittir.


**bilgilerinden hangileri doğrudur?**

- A) Yalnız I      B) I ve II.  
C) II ve III.      D) I, II ve III.

9. **Atomun yapısıyla ilgili verilen bilgilerden hangisi yanlıştır?**

- A) Proton ve nötronlar, çekirdekte bulunur.  
B) Elektronlar, çekirdek etrafında hızla döner.  
C) Protonlar (-), elektronlar (+) yüklüdür.  
D) Nötronlar, nötr taneciklerdir.

10. Bir maddenin tanecikli yapısı şekildeki gibidir.



**Bu madde için aşağıdakilerden hangisi söylenebilir?**

- A) Element      B) Molekül  
C) Karışım      D) Bileşik

11.



Çözünen madde miktarı artırılabilir.

Damla



Çözelti ısıtılıp çözücü buharlaştırılabilir.

Elif



Çözücü miktarı artırılabilir.

Fırat

**Öğretmenin, “seyreltik çözeltiyi derişik hâle nasıl getirebiliriz?” sorusuna hangi öğrenciler doğru yanıt vermiştir?**

- A) Yalnız Damla      B) Damla ve Elif  
C) Damla ve Fırat      D) Elif ve Fırat

12. **Aşağıdakilerden hangisi karışıma örnek verilemez?**

- A) Tuzlu su      B) Kolonya  
C) Hava      D) Karbondioksit

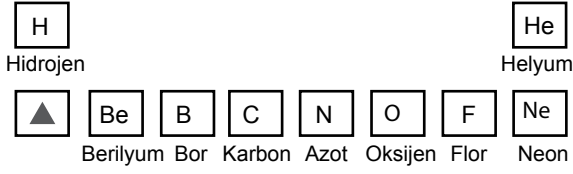
13. • Yağların sindirimini gerçekleştirdiği organdır.  
• Safra ve pankreas öz suyu bu organa salgılanır.  
• Proteinlerin ve karbohidratların sindirimi burada tamamlanır.

**Verilen bilgiler aşağıdaki organlardan hangisine aittir?**

- A) Mide      B) Kalın bağırsak  
C) Ağız      D) İnce bağırsak

# 1. OTURUM

14. Elementlerin belirli bir düzene göre sınıflandırıldığı ve sıralandığı tabloya periyodik cetvel denir.



Yukarıda bir kısmı verilen periyodik cetvelde ▲ olarak gösterilen element aşağıdakilerden hangisidir?

- A) Ar B) Li C) Ca D) Na

15. Aşağıdakilerden hangisi vücudumuzdaki zararlı atıkların dışarıya atılmasında görevli organlardan biri değildir?

- A) Akciğer B) Böbrek  
C) Pankreas D) Deri

16. Sigara ve alkol gibi bağımlılık yapan maddeler

- I. Sindirim bozukluğu  
II. Kalp ve damar hastalığı  
III. Akciğer kanseri

rahatsızlıklarından hangilerine neden olabilirler?

- A) Yalnız I B) I ve II.  
C) II ve III. D) I, II ve III.

17. • Büyüme hormonunu salgılar.  
• Bazı iç salgı bezlerinin çalışmasını denetler.

Yukarıda bazı görevleri verilen salgı bezi hangisidir?

- A) Hipofiz bezi B) Böbrek üstü bezi  
C) Eşeyssel bezler D) Tiroit bezi

18. • Orta kulağı yutağa bağlar.  
• Yükseklik değişikliklerinde dış atmosfer basıncı ile orta kulaktaki basıncın birbirine eşitlenmesini sağlar.

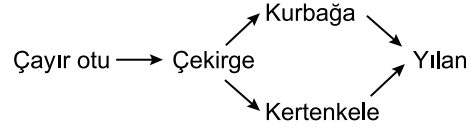
Yukarıda verilen özellikler kulaktaki hangi yapıya aittir?

- A) Kulak yolu B) Östaki borusu  
C) Yarım daire kanalları D) Oval pencere

19. Aşağıdakilerden hangisi küresel ısınmanın artmasına bağlı olarak beklenen durumlardan biri değildir?

- A) Dünyanın ortalama sıcaklığının artması  
B) Canlı çeşitliliğinin artması  
C) Buzulların erimesi  
D) Küresel iklim değişikliği

- 20.



Şekilde gösterilen besin ağında çekirgeler azaldığında öncelikle hangi canlının sayısının artması beklenir?

- A) Çayır otu B) Kurbağa  
C) Kertenkele D) Yılan

## (834) T.C. İNKILAP TARİHİ VE ATATÜRKÇÜLÜK – 8

1. I. Liderlik  
II. Vatanserverlik  
III. Açık sözlülük

Yukarıdaki özelliklerden hangileri, Mustafa Kemal'in Kurtuluş Savaşı'nın her aşamasında Türk milletine önderlik ederek askerî alanda üstün başarılar elde etmesini sağlamıştır?

- A) Yalnız I B) Yalnız II  
C) Yalnız III D) I, II ve III.

2. Mustafa Kemal'in, Avrupalı devletlerin temsilcileriyle buluşup fikir alışverişini yapma imkânı bulunduğu şehir, aşağıdakilerden hangisidir?

- A) Şam B) Sofya  
C) Selanik D) Manastır

3. Bizans İmparatorluğu'nu yeniden diriltmek amacıyla kurulan zararlı cemiyet, aşağıdakilerden hangisidir?

- A) Mavri Mira B) Pontus  
C) Hınçak D) Taşnak

# 1. OTURUM

4. I. Almanya'nın İngiliz sömürgelerine göz dikmesi  
II. Avrupalı devletler arasındaki sömürgecilik yarışı  
III. ABD ile İngiltere'nin çıkarlarının uyuşmaması  
IV. Avrupalı devletler arasındaki silahlanma yarışı

**Yukarıdakilerden hangisi I. Dünya Savaşı'nın nedenleri arasında yer almaz?**

- A) I. B) II. C) III. D) IV.

5. 23 Nisan 1920 tarihi denilince akla aşağıdaki olaylardan hangisi gelir?

- A) Saltanatın kaldırılması  
B) Sevr Barış Antlaşması'nın imzalanması  
C) Ankara'da Büyük Millet Meclisinin açılması  
D) Son Osmanlı Mebusan Meclisinde Misakımillî'nin kabulü

6. Doğu Anadolu'nun güvenliğini sağlamak için toplandığından bölgesel, aldığı kararlar bütün yurdu ilgilendirdiğinden de millî bir kongredir.

**Yukarıda hangi kongreden söz edilmektedir?**

- A) İzmir İktisat B) Sivas  
C) Balıkesir D) Erzurum

7. TBMM'nin aşağıdaki özelliklerinden hangisi, onu Osmanlı Mebusan Meclisinden ayırır?

- A) Üyelerinin seçimle belirlenmesi  
B) Ulusal egemenliğe dayanması  
C) Yasama yetkilisine sahip olması  
D) Bağlı olduğu devleti temsil etmesi

8. Aşağıdaki ayaklanmalardan hangisi "Kuvayı-milliyeci olup sonradan ayaklananlar" sınıfında yer alır?

- A) Çerkez Ethem Ayaklanması  
B) Ahmet Anzavur Ayaklanması  
C) Delibaş Mehmet Ayaklanması  
D) Çopur Musa Ayaklanması

9. Aşağıdaki bilgilerden hangisi Urfa savunmasıyla ilgili değildir?

- A) Fransızlar Urfa'yı Ekim 1919'da işgal etmişlerdir.  
B) Mustafa Kemal, Yüzbaşı Ali Saip'i, Fransızları şehirden çıkarmakla görevlendirmiştir.  
C) Direnme gücü kalmayan Fransızlar 11 Nisan 1920'de silah ve cephaneleriyle Urfa'yı terk etmişlerdir.  
D) Urfa halkının bu şanlı direnişine karşılık şehre, Mustafa Kemal Paşa tarafından "Şanlıurfa" ismi verilmiştir.

10. Atatürk'ün "Millî egemenlik öyle bir nurdur ki onun karşısında zincirler erir, taç ve tahtlar yanar, yok olur." sözü, aşağıdaki ilkelerden hangisiyle doğrudan ilgilidir?

- A) Laiklik B) Devletçilik  
C) Milliyetçilik D) Cumhuriyetçilik

11. I. İzmir  
II. Gaziantep  
III. Bursa  
IV. Kahramanmaraş

**Yukarıda verilen illerden hangileri TBMM'nin kurduğu düzenli ordular tarafından kurtarılmıştır?**

- A) I ve II. B) I ve III.  
C) II ve III. D) I, II ve IV.

12. Aşağıdakilerden hangisi İzmir İktisat Kongresi kararlarından biri değildir?

- A) Sanayinin teşvik edilmesi  
B) Millî sanayi kollarının kurulması  
C) Ürün üzerinden alınan Aşar vergisinin kaldırılması  
D) Demiryolu inşaatının belirlenecek bir programa bağlanması

13. • Türk dilini yabancı dillerin etkisinden kurtarmak  
• Türk dilinin tarihî köklerini araştırmak

**Verilen amaçları gerçekleştirmek için kurulan kuruluş, aşağıdakilerden hangisidir?**

- A) Halkevleri B) Anadolu Ajansı  
C) Türk Dil Kurumu D) Türk Tarih Kurumu



# 1. OTURUM

14. Atatürk'ün, "Efendiler! Milletimiz burada belirlediğimiz büyük zaferden daha önemli bir görev peşindedir. O zaferin anlaşılması milletimizin iktisat alanındaki başarılarıyla mümkün olacaktır. Hiçbir medeni devlet yoktur ki ordu ve donanmasından önce iktisadını düşünmüş olmasın..." sözünü, aşağıdaki hangi millî güç unsuruyla ilişkilendirebiliriz?

- A) Ekonomik Güç B) Sosyokültürel Güç  
C) Askerî Güç D) Siyasi Güç

15. Irak'ın Kuveyt'i işgal etmesiyle başlayan savaş, aşağıdakilerden hangisidir?

- A) Kore Savaşı B) I. Körfez Savaşı  
C) II. Körfez Savaşı D) II. Dünya Savaşı

16. Atatürk Dönemi'nde gerçekleştirilen;

- Halifeliğin kaldırılması
- Tekke ve zaviyelerin kapatılması
- Türk Medeni Kanunu'nun kabul edilmesi

gibi inkılaplarla, aşağıdakilerden hangisi amaçlanmış olabilir?

- A) Dış politikada etkin olmak  
B) Öğretim birliğini sağlamak  
C) Devlet ve toplum yapısını laikleştirmek  
D) Devletin adı ve rejimiyle ilgili sorunları çözmek

17. Atatürk'ün "Yurtta barış, cihanda barış." sözü, onun aşağıdakilerden hangisine karşı olduğunu gösterir?

- A) Cumhuriyete B) Demokrasiye  
C) Barışa D) Savaşa

18. "Kendi liman ve kıyılarımızda gemi işletme hakkına sahip değiliz. Bu hakka sahip olan yabancılar ve azınlıklar bize ciddi zorluklar çıkarıyorlar."

diyen bir gemi tüccarının bu sıkıntısı, aşağıdakilerden hangisiyle çözüme kavuşmuştur?

- A) Kabotaj Kanunu'nun yürürlüğe girmesiyle  
B) Lozan Antlaşması'nın imzalanmasıyla  
C) Boğazlar Komisyonunun kurulmasıyla  
D) Cumhuriyetin ilanıyla

19. Helsinki'de hangi yıl gerçekleştirilen Avrupa Konseyi Zirve Toplantısı'nda Türkiye'ye adaylık statüsü tanınmıştır?

- A) 1963 B) 1971 C) 1987 D) 1999

20. Türkiye'nin 1952'de NATO'ya girmesi, ülkemiz için tehdit oluşturan hangi devlet karşısındaki konumumuzu güçlendirmiştir?

- A) Çin B) SSCB  
C) İngiltere D) Yunanistan

(835) İNGİLİZCE – 8

1-20. sorularda boş bırakılan yere uygun gelen kelime ya da ifadeyi işaretleyiniz.

1. - - - - you - - - - your friends last weekend?

- A) Do / visit B) Did / visit  
C) Are / visiting D) Will / visit

2. Bursa is the - - - - beautiful city I have - - - - seen.

- A) more / just B) more / ever  
C) most / ever D) most / never

3. What - - - - from 6 to 7 last Friday?

- A) do you do B) are you doing  
C) will you do D) were you doing

4. I was playing basketball when an old friend - - - - me.

- A) seeing B) seen C) saw D) see

5. I hate - - - - my holiday in hotels.

- A) spending B) playing  
C) seeing D) eating

6. That's the - - - - film I have ever seen.

- A) better B) worse  
C) good D) best

# 1. OTURUM

7. Don't forget to buy milk. We have - - - - at home.

- A) any B) few C) little D) a lot of

8. When I was eighteen, I - - - - ride a motorcycle.

- A) could B) may C) will D) can

9. If I - - - - a lot, I - - - - the English exam.

- A) break / passed  
B) study / will pass  
C) repair / will pass  
D) understand / passed

10. Can you tell her to go to the office when you - - - - her?

- A) are meeting B) will meet  
C) meet D) met

11. The baby is sleeping. You - - - - make noise.

- A) can B) must  
C) needn't D) shouldn't

12. You should eat this cake. It - - - - delicious.

- A) wears B) finds  
C) knows D) tastes

13. Kevin : My wife never gossips.  
Cole : - - - - my wife.

- A) Neither does B) Neither do  
C) So does D) So do

14. I bought a house - - - - a big garden and a swimming pool.

- A) who has B) who have  
C) which has D) which have

15. How many questions - - - - in this test?

- A) have been giving B) are given  
C) given D) give

16. Many different languages - - - - in Africa.

- A) are spoken B) is spoken  
C) speaks D) speak

17. This money isn't enough for me. I need - - - -.

- A) many B) more  
C) less D) any

18. You shouldn't go out. It is - - - - late - - - -.

- A) too / go out B) much / go out  
C) much / to go out D) too / to go out

19. I have - - - - been to France.

- A) never B) ever C) any D) yet

20. I am sorry, I - - - - hear the phone. I - - - - in the garden.

- A) didn't / work  
B) didn't / will work  
C) didn't / was working  
D) didn't / was worked

(835) ALMANCA – 8

1-19. sorularda boş bırakılan yere uygun gelen ek, kelime ya da ifadeyi işaretleyiniz.

1. A: Wem gehört das Haus?

B: Das Haus gehört - - - - Frau.

- A) der B) die C) das D) dem

2. Die Schüler kaufen - - - - neue T-Shirts.

- A) ich B) mich C) sich D) sein

3. hell, - - - - , am hellsten

- A) hellste B) dunkel  
C) dunkelste D) heller

# 1. OTURUM

4. Der Zug - - - - nach Hamburg.

- A) fahren                      B) fuhr  
C) gefahren                  D) fährst

5. **A:** Freut - - - - euch auf die Sommerferien?  
**B:** Ja, wir freuen uns sehr.

- A) ihr      B) wir      C) sie      D) uns

6. Ich lebe - - - - Ankara.

- A) beim      B) in      C) zu      D) im

7. **A:** Hallo Claudia. Wo arbeitet deine Mutter?  
**B:** - - - - arbeitet im Krankenhaus.

- A) Er      B) Ich      C) Sie      D) Ihr

8. Ich - - - - wenig Obst.

- A) trinke      B) esse      C) laufe      D) höre

9. Mustafa - - - - gestern nicht in die Schule.  
(Präteritum)

- A) gehen                      B) geht  
C) ging                         D) gegangen

10. Ahmet hat - - - - Vater ein Geschenk gekauft.

- A) uns                         B) euch  
C) meiner                    D) seinem

11. **A:** Ayşe, kannst du mir - - - - Heft geben?  
**B:** Ja, gerne.

- A) deine      B) dein      C) deinen      D) deiner

12. - - - - kann ich nach Taksim fahren?

- A) Wer      B) Wie      C) Wo      D) Was

13.



Die Vögel sind - - - - dem Baum.

- A) bei                         B) zwischen  
C) auf                        D) unter

14. - - - - Fußballspieler heißt Ronaldo.

- A) Diese                      B) Dieses  
C) Diesen                    D) Dieser

15. Ich habe mit - - - - Tennis gespielt.

- A) ihm      B) sein      C) ihre      D) er

16. Die grün- - - - - Stifte. (Plural)

- A) -e      B) -es      C) -er      D) -en

17.



**A:** Was macht die Frau?

**B:** Sie - - - - Wäsche.

- A) kocht                      B) wäscht  
C) geht                        D) schreibt

# 1. OTURUM

18. A: Hast du mit - - - - Lehrer gesprochen?  
B: Nein, ich habe nicht mit - - - - gesprochen.

- A) ihm / der                      B) der / ihr  
C) dem / ihm                     D) ihr / sein

19. Wir kommen - - - - der Türkei.

- A) aus      B) zum      C) im      D) beim

20. Aşağıdakilerden hangisi fiil değildir? (Verb)

- A) kaufen                      B) sprechen  
C) singen                      D) laut

## (835) FRANSIZCA – 8

1-15. sorularda boş bırakılan yere uygun gelen kelime ya da ifadeyi işaretleyiniz.

1. - - - - est allée voir son petit cousin à Bolu.

- A) Tu                              B) Il  
C) Vous                          D) Elle

2. Les nouveaux étudiants - - - - des informations au secrétariat de la faculté.

- A) sont demandé              B) avez demandé  
C) ont demandé                D) as demandé

3. Selçuk étudie le français - - - - Grenoble - - - - France.

- A) au / à    B) à / en    C) en / au    D) au / aux

4. Pour acheter de la tarte aux fraises et du gâteau au chocolat Alice va chez - - - -.

- A) le pâtissier  
B) la pharmacienne  
C) le marchand de journaux  
D) le médecin

5. En Turquie, le tennis est - - - - que le football.

- A) moins populaires          B) moins populaire  
C) aussi populaires            D) plus populaires

6. Lisa a acheté deux gâteaux et cinq boissons sucrées pour l'anniversaire de sa fille.

Alors, elle a acheté - - - - de boissons sucrées que de gâteaux.

- A) plus                              B) moins  
C) tant                              D) autant

7. Comme boisson, - - - - du sirop à la menthe.

- A) dînez                            B) déjeunez  
C) buvez                            D) mangez

8. Le jambon coûte dix euros - - - -.

- A) le mètre carré                B) le litre  
C) le mètre                        D) le kilo

9. Annie : Pardon monsieur, c'est - - - - la cabine téléphonique ?

M.Bertrand : Elle est au coin de la rue du Palais de la Justice.

- A) quand                          B) ou  
C) combien                        D) où

10. Pour voir les quartiers anciens à Istanbul, nous - - - - le vélo.

- A) prenons                        B) visitons  
C) voyons                         D) devenons

11. Arda - - - - tu as vu hier est dans ma classe.

- A) où                                B) que  
C) dont                              D) qui

12. Mme Bertrand - - - - est professeur de musique joue de trois instruments.

- A) que                                B) où  
C) qui                                D) pourquoi

13. Pierre a trente-deux ans, c'est - - - -.

- A) un vieux monsieur          B) une jeune fille  
C) un jeune homme            D) une vieille dame

# 1. OTURUM

14. Si tu es en retard, tu - - - ta place.

- A) perdras                      B) êtes perdues  
C) perdrons                    D) perdrai

15. Merve : - - - - tu as fait à Rome ?

Marie : J'ai visité les monuments historiques.

- A) Comment                    B) Qu'est-ce que  
C) Combien                    D) Quand

16-20. soruları resimleri dikkate alarak cevaplayınız.

16.



En été, ils font - - - - à Kuşadası.

- A) du ski                      B) du tennis  
C) de la boxe                D) de la voile

17.



Charlotte ne peut pas courir parce qu'elle a - - - -.

- A) le bras cassé              B) mal au ventre  
C) mal aux yeux              D) la jambe cassée

18.



Quand il rentre de l'école, il - - - - toujours.

- A) se douche                B) se promène  
C) s'habille                  D) se couche

19.



Il - - - - son manteau en courant.

- A) cherches                  B) met  
C) danse                      D) pleure

20.



Il a mal - - - -.

- A) au cou                      B) à l'estomac  
C) aux dents                D) aux bras

# 1. OTURUM

## (836) DİN KÜL. VE AHLAK BİLGİSİ – 8

1. İnsan, evreni ve tabiatı gözlemlediğinde her şeyin belli bir ahenk içerisinde hareket ettiğini, tüm evrende bir ölçü ve düzen olduğunu görür.

**Bu cümle aşağıdaki ayetlerden hangisi ile ilişkilendirilemez?**

- A) “Gerçekten biz, her şeyi bir ölçü ve dengede yarattık.” (Kamer suresi, 49. ayet)  
B) “Onlar ki, faydasız işlerden ve boş sözlerden yüz çevirirler.” (Müminun suresi, 3. ayet)  
C) “Güneş ve ay bir hesaba göre hareket etmektedir.” (Rahman suresi, 5. ayet)  
D) “O, yedi göğü tabaka tabaka yaratandır. Rahmân’ın yaratışında hiçbir uygunsuzluk göremezsin...” (Mülk suresi, 3. ayet)

2. Aşağıdakilerden hangisi “kader” kavramını açıklayan kelimelerden biri değildir?

- A) Denge B) Ölçü C) Düzen D) Tesadüf

3. “Ve onlar ki kendilerine emanet edileni korur, verdikleri sözü yerine getirir ve şahitliklerini dosdoğru yaparlar.” (Meâric suresi, 32-33. ayetler)

**Bu ayette müminlerin hangi özelliğine değinilmiştir?**

- A) Sabırlı olmak  
B) Sözünde durmak  
C) Doğru söz söylemek  
D) Güvenilir olmak

4. Aşağıdakilerden hangisi insanın kendi iradesi ile gerçekleşebilir?

- A) Anne ve babasının kim olacağı  
B) Hangi cinsiyette doğacağı  
C) Hangi mesleği seçeceği  
D) Ne zaman doğacağı

5. Kişinin herhangi bir zorlama ve baskı altında olmadan, serbest bir şekilde kendi isteği ve düşüncesiyle karar verebilme durumudur.

**Bu tanımla açıklanan kavram aşağıdakilerden hangisidir?**

- A) Akıl B) Sorumluluk  
C) Düşünce D) İrade

6. Aşağıdaki ayet ve hadislerden hangisinde rızık için gereken emek ve çabaya değilmiştir?

- A) “Bilsin ki insan için kendi çalışmasından başka bir şey yoktur.” (Necm suresi, 39. ayet)  
B) Sizden herhangi birinizin sırtına bir bağ odun yüklenip satması, dilenmesinden hayırlıdır...” (Hadis)  
C) “Yeryüzündeki her canlının rızıkı Allah’a aittir ...” (Hûd suresi, 6. ayet)  
D) Kimse kendi kazancından daha hayırlı bir lokma yememiştir. (Hadis)

7. Kenan’ın kurtları toplanıp geldi Biz yemedik diye ettiler andı Yakub’un feryadı arşa dayandı Ağlar Yakub ağlar - - - - deyu

**Şiirin son mısrasında boş bırakılan yere aşağıdaki peygamberlerden hangisi yazılmalıdır?**

- A) Yunus B) İbrahim  
C) Yusuf D) Musa

8. Paylaşma ve yardımlaşma ile ilgili aşağıda verilen bilgilerden hangisi yanlıştır?

- A) Cimrilik ve kıskançlık gibi duygulara engel olur.  
B) Milli gelirin tek elde toplanmasını sağlar.  
C) Toplumsal barışa ve huzura katkı sağlar.  
D) Toplum bilincini güçlendirir.

9. “...O’nun kürsüsü, bütün gökleri ve yeri kaplayıp kuşatmıştır. (O, göklere, yere, bütün evrene hükmetmektedir.) Gökleri ve yeri koruyup gözetmek O’na güç gelmez. O, yücedir, büyüktür.” (Bakara suresi, 255. ayet)

**Bu ayet aşağıdaki bilgi edinme yollarından hangisiyle ilişkilidir?**

- A) Yalnızca vahiy B) Vahiy ve duyular  
C) Duyular ve akıl D) Yalnızca akıl

10. İslam dini aşağıdakilerden hangisinde yardımlaşmayı tasvip etmez?

- A) İyilik yapmakta  
B) Sevap olan işlerde  
C) Günah olan işlerde  
D) Haramdan kaçınmakta

# 1. OTURUM

11. "Onlar bollukta ve darlıkta Allah yolunda harca-  
yanlar, öfkelerini yenenler, insanları affedenlerdir.  
Allah, iyilik edenleri sever."  
(A'li İmran suresi, 134. ayet)

**Bu ayetin altı çizili bölümünde vurgulanan dav-  
ranışlar aşağıdakilerden hangisi ile ilişkilidir?**

- A) Paylaşma ve yardımlaşma.  
B) Doğruluk ve hoşgörü  
C) Sabır ve affedicilik  
D) Kararlılık ve cesaret

12. Allah'ın bize vermiş olduğu zenginlik ve nimetlere karşılık bir şükür ifadesidir. Malın şükürü ancak - - - - ile yerine getirilir.

**Bu cümlede boş bırakılan yere aşağıdakiler-  
den hangisi gelmelidir?**

- A) namaz B) kurban C) oruç D) zekat

13. "Mallarını Allah yolunda harcayanların duru-  
mu, yedi başak bitiren ve her başakta yüz tane  
bulunan bir tohum gibidir. Allah, dilediğine kat kat  
verir. Allah, lütfu geniş olandır, hakkıyla bilendir."  
(Bakara suresi, 261. ayet)

**Bu ayetten aşağıdakilerden hangisi çıkarıla-  
maz?**

- A) Zekat ve sadaka vermek malı bereketlendirir.  
B) Allah, yapılan yardıma fazlasıyla karşılık verir.  
C) Yardımlaşmayı ancak zenginler yapabilir.  
D) Zekât ve sadaka vermek sevapları da artırır.

14. • Akıllı olmak  
• Ergenlik çağına girmiş olmak  
• Zengin olmak

**Bir Müslüman aşağıdaki ibadetlerden hangisi-  
ni yapabilmesi için bu şartların tamamını taşı-  
mak zorundadır?**

- A) Namaz B) Zekat C) Oruç D) Sadaka

15. Yeşilay'ın amacı bireylerin beden sağlığına zarar veren kötü alışkanlıklarla mücadele etmektir.

**Buna göre aşağıdakilerden hangisi Yeşilay'ın öncelikli hedeflerinden biri değildir?**

- A) İçki B) Sigara  
C) Kumar D) Uyuşturucu

16. Aşağıdakilerden hangisi hac ve umre ibadetin-  
de ortak yapılıır?

- A) Kurban B) Sa'y  
C) Vakfe D) Şeytan taşlanması

17. Aşağıdaki ibadetlerden hangisi yapılmadığı takdirde hem günah hem de kul hakkı ihlali olur?

- A) Ramazan orucunun tutulmaması  
B) Cuma namazının terk edilmesi  
C) Beş vakit namazın terk edilmesi  
D) Zekat ibadetinin terk edilmesi

18. Aşağıdakilerden hangisi kurban ile ilgili haram bir davranıştır?

- A) Allah'tan başkası adına kesilmesi  
B) Kurban etinin üçe bölünmemesi  
C) Kesen kişinin yakınlarının yemesi  
D) Büyükbaş hayvan kesilmesi

19. Hz. Muhammed (sav.) bir topluma girdiğinde ken-  
disi için ayağa kalkılmasını istememiştir.

**Bu davranışıyla Hz. Muhammed (sav.) aşağıda-  
kilerden hangisini anlatmıştır?**

- A) Her zaman doğru sözlü olmak gerektiği  
B) Büyüklere saygı göstermenin önemi  
C) Sabırsız davranmanın yanlışlığı  
D) Kimsenin kimseden üstün olmadığı

20. Aşağıdakilerden hangisi Hz. Hatice'nin Hz. Muhammed (sav.) ile evlenmesinin bir gerekçesi olarak gösterilemez?

- A) Ticaretten anlaması  
B) Peygamber olması  
C) Ahlaklı olması  
D) Güvenilir olması

## CEVAP KÂĞIDI VE SORU KİTAPÇIĞI İLE İLGİLİ AÇIKLAMALAR

1. Cevap kâğıdınızdaki bilgilerin doğruluğunu kontrol ediniz ve cevap kâğıdınızı mürekkepli kalemle imzalayınız.
2. Cevap kâğıdı üzerinde kodlamalarınızı siyah kurşun kalemle yapınız.
3. Değiştirmek istediğiniz bir cevabı, yumuşak silgiyle cevap kâğıdını örselemeden temizce siliniz ve yeni cevabınızı kodlayınız.
4. Soru kitapçığının sayfalarını görevlilerin uyarıları doğrultusunda kontrol ediniz, baskı hatası var ise değiştirilmesini sağlayınız.
5. Soruların çözümü için size ayrıca boş kâğıt verilmeyecektir. Soru kitapçığının içindeki boş alanları soru çözümleri için kullanabilirsiniz.
6. Her sorunun dört seçeneğinden sadece biri doğrudur. Doğru seçeneği, cevap kâğıdınızın ilgili sütununa soru numarasını dikkate alarak yuvarlağın dışına taşırmadan kodlayınız. Soru kitapçığı üzerinde yapılan cevaplandırmalar dikkate alınmayacaktır.
7. Cevaplamaya istediğiniz dersin sorusundan başlayabilirsiniz. Cevabını bilmediğiniz sorular üzerinde fazla zaman kaybetmeden diğer sorulara geçiniz. Zamanınız kalırsa bu sorulara daha sonra dönebilirsiniz.
8. Yanlış cevaplarınız dikkate alınmadan sadece doğru cevaplarınız üzerinden puanlama yapılacaktır.
9. Soruları ve sorulara verdiğiniz cevapları, yanınızda götürmek amacıyla kaydetmeyiniz; hiçbir şekilde dışarı çıkarmayınız.
10. Sınav bitiminde soru kitapçığı ve cevap kâğıdını salon görevlilerine teslim ediniz.

## SALON GÖREVLİLERİNCE SINAV BAŞLAMADAN ÖNCE ADAYLARA YAPILACAK SON UYARILAR

- Soracağınız bir şey varsa şimdi sorunuz, sınav başladıktan sonra sorularınıza cevap verilmeyecektir.
- Başlama zilini bekleyiniz.

*Hepinize başarılar dileriz.*

(Salon başkanı başlama ve bitiş saatini tahtaya yazacaktır.)

Bu kitapçığın her hakkı saklıdır. Hangi amaçla olursa olsun, kitapçığın tamamının veya bir kısmının Millî Eğitim Bakanlığı Ölçme, Değerlendirme ve Sınav Hizmetleri Genel Müdürlüğünün yazılı izni olmadan kopya edilmesi, fotoğraflarının çekilmesi, bilgisayar ortamına alınması, herhangi bir yolla çoğaltılması, yayımlanması veya başka bir amaçla kullanılması yasaktır. Bu yasağa uymayanlar, doğabilecek cezai sorumluluğu ve kitapçığın hazırlanmasındaki mali külfeti peşinen kabullenmiş sayılır.



**18 MART 2017 TARİHİNDE YAPILAN  
AÇIK ÖĞRETİM ORTAOKULU 2016-2017 ÖĞRETİM YILI 2. DÖNEM SINAVI  
1. OTURUM CEVAP ANAHTARI**

**TÜRKÇE – 5**

1. A
2. C
3. A
4. C
5. B
6. D
7. D
8. A
9. C
10. D
11. B
12. A
13. D
14. A
15. C
16. B
17. C
18. C
19. D
20. B

**FEN BİLİMLERİ – 5**

1. C
2. A
3. A
4. C
5. D
6. B
7. C
8. D
9. D
10. B
11. D
12. C
13. A
14. C
15. D
16. A
17. B
18. C
19. B
20. A

**İNGİLİZCE – 6**

1. A
2. C
3. D
4. A
5. B
6. D
7. C
8. B
9. D
10. B
11. A
12. D
13. C
14. B
15. B
16. A
17. C
18. B
19. D
20. C

**FRANSIZCA – 6**

1. B
2. D
3. A
4. C
5. C
6. A
7. D
8. B
9. B
10. C
11. A
12. B
13. B
14. C
15. D
16. A
17. A
18. C
19. B
20. D

**MATEMATİK – 5**

1. B
2. C
3. A
4. B
5. D
6. A
7. C
8. D
9. D
10. B
11. C
12. D
13. A
14. A
15. C
16. A
17. A
18. B
19. B
20. D

**SOSYAL BİLGİLER – 6**

1. C
2. D
3. B
4. A
5. C
6. B
7. D
8. A
9. C
10. B
11. C
12. A
13. A
14. D
15. A
16. B
17. D
18. D
19. A
20. B

**ALMANCA – 6**

1. C
2. B
3. A
4. D
5. B
6. C
7. A
8. D
9. B
10. A
11. C
12. D
13. B
14. A
15. D
16. B
17. D
18. A
19. C
20. C

**DİN KÜLTÜRÜ ve AHLAK  
BİLGİSİ – 6**

1. B
2. A
3. C
4. D
5. A
6. D
7. B
8. C
9. B
10. D
11. C
12. A
13. D
14. C
15. A
16. B
17. C
18. D
19. A
20. D

**18 MART 2017 TARİHİNDE YAPILAN  
AÇIK ÖĞRETİM ORTAOKULU 2016-2017 ÖĞRETİM YILI 2. DÖNEM SINAVI  
1. OTURUM CEVAP ANAHTARI**

**TÜRKÇE – 7**

1. A
2. D
3. C
4. C
5. D
6. A
7. B
8. D
9. C
10. B
11. A
12. D
13. D
14. A
15. B
16. D
17. C
18. C
19. B
20. C

**FEN ve TEKNOLOJİ – 7**

1. A
2. C
3. B
4. C
5. C
6. B
7. A
8. D
9. C
10. A
11. B
12. D
13. D
14. B
15. C
16. D
17. A
18. B
19. B
20. A

**İNGİLİZCE – 8**

1. B
2. C
3. D
4. C
5. A
6. D
7. C
8. A
9. B
10. C
11. D
12. D
13. A
14. C
15. B
16. A
17. B
18. D
19. A
20. C

**FRANSIZCA – 8**

1. D
2. C
3. B
4. A
5. B
6. A
7. C
8. D
9. D
10. A
11. B
12. C
13. C
14. A
15. B
16. D
17. D
18. A
19. B
20. C

**MATEMATİK – 7**

1. B
2. B
3. A
4. C
5. B
6. D
7. D
8. C
9. B
10. A
11. D
12. C
13. B
14. D
15. C
16. A
17. D
18. C
19. D
20. A

**TC İNK. TAR. VE ATA. – 8**

1. D
2. B
3. A
4. C
5. C
6. D
7. B
8. A
9. D
10. D
11. B
12. C
13. C
14. A
15. B
16. C
17. D
18. A
19. D
20. B

**ALMANCA – 8**

1. A
2. C
3. D
4. B
5. A
6. B
7. C
8. B
9. C
10. D
11. B
12. B
13. C
14. D
15. A
16. D
17. B
18. C
19. A
20. D

**DİN KÜLTÜRÜ ve AHLAK  
BİLGİSİ – 8**

1. B
2. D
3. A
4. C
5. D
6. C
7. C
8. B
9. A
10. C
11. A
12. D
13. C
14. B
15. C
16. B
17. D
18. A
19. D
20. B